



जब तक आपको यह प्रश्न-पुस्तिका खोलने को नहीं कहा जाए तब तक न खोलें।

2025

Question Booklet Bar Code Serial No.

प्रश्न-पुस्तिका बार कोड क्रम संख्या



4471527

कोड : CIZU-2-24

विषय : सामान्य अध्ययन - II

समय : 2 घण्टे

पूर्णांक : 200

अपना अनुक्रमांक सामने बॉक्स में लिखें

अंकों में

शब्दों में

--	--	--	--	--	--	--	--

प्रश्नों के उत्तर के लिए केवल काले बॉल-प्वाइंट पेन का प्रयोग करें।
अभ्यर्थी उत्तर-पत्रक पर उत्तर देने से पहले सभी अनुदेशों को सावधानीपूर्वक पढ़ लें।

अन्तरीक्षक
के हस्ताक्षर

आपको अपने सभी उत्तर केवल उत्तर-पत्रक पर ही देने हैं। परीक्षा के उपरांत उत्तर-पत्रक अन्तरीक्षक को सौंप दें तथा अभ्यर्थी प्रति (नीली) अन्तरीक्षक से प्राप्त कर लें।

महत्वपूर्ण अनुदेश

- सभी प्रश्नों के उत्तर दें। सभी प्रश्नों के अंक समान हैं। ओ.एम.आर. उत्तर-पत्रक और प्रश्न-पुस्तिका जिनकी बार कोड क्रम संख्या एकसमान है, सील्ड पारदर्शी पॉलीथीन पैकेट के अन्दर एक साथ रखी है।
- पारदर्शी सील्ड पॉलीथीन पैकेट खोलने के तुरन्त बाद, पुनः जाँच करके देख लें कि प्रश्न-पुस्तिका एवं ओ.एम.आर. उत्तर-पत्रक पर मुद्रित बार कोड क्रम संख्या एकसमान हैं तथा सभी पृष्ठ भली-भाँति छपे हुए हैं। यदि प्रश्न-पुस्तिका एवं ओ.एम.आर. उत्तर-पत्रक पर मुद्रित बार कोड क्रम संख्या एकसमान न हों या इसमें अन्य कोई विसंगति हो, तो इसे कक्ष निरीक्षक को वापस कर प्रश्न-पुस्तिका एवं ओ.एम.आर. उत्तर-पत्रक का दूसरा सील्ड पॉलीथीन पैकेट प्राप्त कर लें।
- अभ्यर्थी प्रश्न-पुस्तिका एवं ओ.एम.आर. उत्तर-पत्रक पर मुद्रित बार कोड क्रम संख्या के एकसमान होने की पुष्टि करने के उपरान्त ही ओ.एम.आर. उत्तर-पत्रक पर अपना सही अनुक्रमांक, विषय एवं विषय कोड निर्धारित स्थान पर अंकित करें, अन्यथा ओ.एम.आर. उत्तर-पत्रक का मूल्यांकन नहीं किया जाएगा और उसकी जिम्मेदारी स्वयं अभ्यर्थी की होगी।
- अनुक्रमांक के अलावा प्रश्न-पुस्तिका के कवर पेज पर कुछ न लिखें। रफ कार्य के लिए प्रश्न-पुस्तिका के अन्त में दिए गए दो पृष्ठों का प्रयोग करें।
- इस प्रश्न-पुस्तिका में 100 प्रश्न हैं। प्रत्येक प्रश्न के चार (4) वैकल्पिक उत्तर प्रश्न के नीचे दिए गए हैं। इन चारों में से केवल एक ही सही उत्तर है। जिस उत्तर को आप सही या सबसे उचित समझते हैं, ओ.एम.आर. उत्तर-पत्रक में उसके अक्षर वाले वृत्त को काले बॉल-प्वाइंट पेन से पूरा काला कर दें।
- इस प्रश्न-पुस्तिका में (प्रश्न संख्या 1 - 45 के अतिरिक्त) सभी प्रश्न हिन्दी व अंग्रेज़ी दोनों भाषाओं में मुद्रित हैं। द्विभाषी (हिन्दी/अंग्रेज़ी) में किसी भी प्रश्न में अस्पष्टता के मामले में प्रश्न का अंग्रेज़ी संस्करण प्रभावी होगा।
- गलत उत्तरों के लिए दण्ड :

ओ.एम.आर. उत्तर-पत्रक में अभ्यर्थी द्वारा दिए गए गलत उत्तरों के लिए दण्ड दिया जाएगा।

- प्रत्येक प्रश्न के लिए चार वैकल्पिक उत्तर हैं। अभ्यर्थी द्वारा प्रत्येक प्रश्न के लिए दिए गए एक गलत उत्तर के लिए प्रश्न हेतु नियत किए गए अंकों का एक-तिहाई दण्ड के रूप में काटा जाएगा।
- यदि कोई अभ्यर्थी एक से अधिक उत्तर देता है, तो इसे गलत उत्तर माना जाएगा, यद्यपि दिए गए उत्तरों में से एक उत्तर सही होता है, फिर भी उस प्रश्न के लिए उपर्युक्तानुसार ही उसी तरह का दण्ड दिया जाएगा।
- यदि अभ्यर्थी द्वारा कोई प्रश्न हल नहीं किया जाता है, अर्थात् अभ्यर्थी द्वारा उत्तर नहीं दिया जाता है, तो उस प्रश्न के लिए कोई दण्ड नहीं दिया जाएगा।

नोट : कृपया प्रश्न-पुस्तिका एवं ओ.एम.आर. उत्तर-पत्रक पर मुद्रित बार कोड क्रम संख्या के एकसमान होने की जाँच कर ली जाए तथा बार कोड क्रम संख्या के एकसमान न होने की दशा में उसे बदलकर प्रश्न-पुस्तिका एवं ओ.एम.आर. उत्तर-पत्रक का दूसरा सील्ड पॉलीथीन पैकेट प्राप्त कर लिया जाए।

Note : English version of the instructions is printed on the back cover of this Question Booklet.

\$ 1 \$



1. संस्कृत और प्राकृत से विकृत होकर हिन्दी में आये हुए शब्दों को क्या कहते हैं ?

- (a) देशज
(b) तद्भव
(c) तत्सम
(d) विदेशज

2. 'द्रौपदी' का सही पर्याय शब्द नहीं है

- (a) कृष्णा (b) पांचाली
(c) याज्ञसेनी (d) अम्बिका

3. उत्तर प्रदेश में इनमें से कौन-सी बोली नहीं बोली जाती है ?

- (a) पहाड़ी (b) कन्नौजी
(c) ब्रजभाषा (d) अवधी

4. इनमें से शुद्ध वाक्य है

- (a) लाल बहादुर शास्त्री की मृत्यु बहुत ही दुःखपूर्ण थी ।
(b) धन के रहित जीवन व्यर्थ है ।
(c) मैं केवल इतना ही चाहता हूँ ।
(d) क्या विश्वविद्यालय समाज का नेतृत्व करने में सफल रहे हैं ?

5. निम्नलिखित विलोम-युग्मों में से गलत का चयन कीजिए ।

- (a) विमुख-प्रमुख (b) स्वाधीन-पराधीन
(c) निष्काम-सकाम (d) विधवा-सधवा

6. 'सक्तु' शब्द का तद्भव शब्द है

- (a) सात (b) शक्ति
(c) सत्तू (d) सकता

7. निम्नलिखित में से अशुद्ध वर्तनी वाले शब्द का चयन कीजिए ।

- (a) सत्त्व (b) निसंदेह
(c) महत्त्व (d) उज्ज्वल

8. 'दूरागत' शब्द में समास है

- (a) सम्प्रदान तत्पुरुष
(b) अधिकरण तत्पुरुष
(c) करण तत्पुरुष
(d) अपादान तत्पुरुष

9. 'पाठक' का बहुवचन रूप होगा

- (a) पाठिकाएँ (b) पाठकगण
(c) पाठिका (d) पाठक

10. इनमें से कौन-सी बोली पूर्वी हिन्दी की नहीं है ?

- (a) बघेली
(b) छत्तीसगढ़ी
(c) अवधी
(d) भोजपुरी

11. शब्दार्थ का सही युग्म नहीं है

- (a) द्विप-हाथी (b) इतर-बुराई
(c) कृती-निपुण (d) कृषाण-किसान

12. आगरा-मथुरा को किस बोली का केन्द्र माना जाता है ?

- (a) अवधी (b) बाँगरू
(c) ब्रज (d) बुन्देली

13. 'विमला ने कहा कि गोविन्द अब स्वस्थ है ।' यह वाक्य भेद की दृष्टि से है

- (a) मिश्र वाक्य (b) संयुक्त वाक्य
(c) सरल वाक्य (d) इनमें से एक भी नहीं

14. निम्नलिखित में से किस विकल्प में महाप्राण ध्वनियाँ हैं ?

- (a) य, ल, क्ष, ज्ञ
(b) क, च, ब, म
(c) ख, झ, फ, भ
(d) त, द, न, प

15. 'चरमोत्कर्ष' शब्द का सन्धि-विच्छेद है
 (a) चरमो + उत्कर्ष (b) चरम + उत्कर्ष
 (c) चर + मोत्कर्ष (d) चरम + कर्ष
16. 'ऊ हमारा के खेलही ना देत रहे।' यह इनमें से किस बोली का उदाहरण है ?
 (a) अवधी (b) बुन्देली
 (c) ब्रज (d) भोजपुरी
17. झाँसी क्षेत्र में कौन-सी बोली बोली जाती है ?
 (a) बुन्देली
 (b) भोजपुरी
 (c) छत्तीसगढ़ी
 (d) कन्नौजी

18. मुहावरा तथा उसके सम्मुख लिखे अर्थ का कौन-सा युग्म सुमेलित नहीं है ?

- (a) विष की गाँठ - उपद्रवी
 (b) शीशे में मुँह देखो - विरोध प्रकट करना
 (c) शान में बड़ा लगना - शान घटना
 (d) लुटिया डुबोना - काम खराब कर देना

निम्नलिखित गद्यांश को ध्यान से पढ़िए तथा प्रश्न संख्या 19 से 23 तक के उत्तर इस गद्यांश के आधार पर ही दीजिए।

बड़े-बड़े उत्थान और बड़ी-बड़ी क्रान्तियाँ प्रायः भाषा के सहारे ही होती हैं। भाषा ही लोगों को बहकाकर मनुष्यत्व की सीमा से निकालकर हिंसक पशुओं तक के वर्ग में ले जाती है और भाषा ही उन्हें कुमार्ग से हटाकर सन्मार्ग पर लाती है और पाप से विमुक्त करके पुण्य कार्यों में लगाती है। भाषा की शक्ति अपरिमित और अमोघ है। अच्छी भाषा में जादू का असर, संगीत का माधुर्य और तलवार की शक्ति होती है। इसीलिए अंग्रेजी में एक कहावत-सी बन गयी है, जिसका आशय है - तलवार से भी बढ़कर शक्तिशालिनी कलम है। इस कथन में 'कलम' लिखित भाषा की प्रतीकमात्र है। हमारे यहाँ तो उसे और भी अधिक ऊँचा स्थान दिया गया है। हम

उसे सरस्वती देवी का रूप मानते हैं। अतः जो लोग बड़े बनना चाहते हों, या बड़े काम करना चाहते हों, उन्हें पहले अपनी भाषा की ओर ध्यान देना चाहिए।

19. बड़ी-बड़ी क्रान्तियाँ प्रायः किसके सहारे ही होती हैं ?
 (a) युद्ध के सहारे
 (b) धर्म के सहारे
 (c) मार-काट के सहारे
 (d) भाषा के सहारे

20. तलवार से भी बढ़कर शक्तिशालिनी है
 (a) किताब (b) कलम
 (c) लता (d) कोठी

21. हम किसे सरस्वती देवी का रूप मानते हैं ?
 (a) मूर्ति को (b) चित्र को
 (c) कलम को (d) स्थापत्य को

22. भाषा की शक्ति है
 (a) अपरिमित और अमोघ
 (b) सीमान्त और सीमेतर
 (c) सीमित और छुद्र
 (d) परिमित और मोघ

23. अच्छी भाषा में नहीं है
 (a) जादू का असर
 (b) संगीत का माधुर्य
 (c) तलवार की शक्ति
 (d) चित्र का रूप-रंग

24. इनमें से कौन-सा वाक्य अशुद्ध है ?
 (a) लड़कियाँ जा रही थीं।
 (b) वे लोग विविध विषयों से परिचित थे।
 (c) चार बजा है।
 (d) अनेक प्रकार की विद्याएँ सीखीं।

25. इनमें कौन एक शब्द देशज शब्द है ?
 (a) चिड़िया (b) पलंग
 (c) बच्चा (d) भात



26. Choose the correct preposition for given blank in the idiom.



Cry _____ split milk.

- (a) upon (b) at
(c) on (d) over

27. Identify the correct spelling from the options given below.

- (a) Reservoir
(b) Reservoure
(c) Reservoir
(d) Reservour

28. Which type of noun is used in the sentence – 'The crowd was very big.'?

- (a) Common (b) Abstract
(c) Proper (d) Collective

29. Fill the correct form of verb in the given sentence.



Many a man _____ died for his country.

- (a) is (b) was
(c) has (d) have

30. What is the meaning of the word 'ephemeral'?

- (a) Temporary
(b) Mysterious
(c) Permanent
(d) Loud

Direction (Q. Nos. 31 to 35) : Read the passage below and then answer the questions that follow.

It has been part of Nelson's prayer that the British fleet might be distinguished by humanity in the victory which he expected. Setting an example himself, he twice gave orders to cease firing upon the Redoubtable, supposing that she had struck because her great guns were silent; for as she carried no flag, there was no means of instantly ascertaining the fact. From this ship, which he had thus twice spared, he received his death. A ball fired from her mizzen-top, which, in the then situation of the two vessels, was not more than fifteen yards from that part of the deck where he was standing, struck the epaulette on his left shoulder about a quarter after one, just in the heat of action. He felt upon his face on the

spot which was covered with his poor secretary's blood. Hardy, who was few steps away from him turning round, saw three men raising him up. "They have done for me at last, Hardy!" said he. "I hope not!" cried Hardy. "Yes", he replied, "my backbone is shot through!" Yet, even now, not for a moment losing his presence of mind, he observed as they were carrying him down the ladder, that the tiller-ropes which had been shot away, were not yet replaced and ordered that new ones should be roped immediately. Then that he might not be seen by the crew, he took out his handkerchief and covered his face and his stars. Had he but concealed these badges of honour from the enemy, England perhaps would not have had cause to receive with sorrow the news of battle of Trafalgar. The cockpit was crowded with wounded and dying men; over whose bodies he was, with some difficulty, conveyed and laid upon a pallet in the midshipmen's berth. It was soon perceived, upon examination, that the wound was mortal. This, however, was concealed from all, except Captain Hardy, the Chaplain, and the medical attendants. He himself, being certain, from the sensation in his back and the gush of blood felt momentarily within his breast, that no human care could avail him, insisted that the surgeon should leave him and attend to those to whom he might be useful.

31. What qualities of Nelson's character was revealed by this passage?

- (a) Bravery, patriotism and humanity
(b) Cruelty, ambition and cunning
(c) Silence, confusion and detachment
(d) Greed, pride and recklessness

32. What do you understand by the "mizzen-top"?

- (a) The captain's look-out post
(b) The roof of the ships cabin
(c) The highest point of ship's bow
(d) The platform around the lower part of the most nearest the stern

33. Choose the antonym of "presence of mind".

- (a) Attentiveness
(b) Panic
(c) Quick thinking
(d) Alertness



34. Why did Nelson insist that the surgeon should leave him and attend to others ?
- He wanted privacy in his final moments
 - He felt his injury was not serious
 - He believed that he could recover without help
 - He know he was dying and wanted the surgeon to help others

35. What is meant by "midshipman" ?
- An officer of the lowest rank in the navy
 - An officer of the middle rank in the navy
 - An officer of the highest rank in the navy
 - An officer of non-commissioned rank in the navy

36. Choose the correct passive form of the sentence.
'The company has cut all the salaries.'
- All the salaries should have been cut by the company.
 - All the salaries are cut by the company.
 - All the salaries have been cut by the company.
 - Salaries should have been cut by the company.

37. Fill in the blank by choosing from the options given.

He is suspicious _____ all his neighbours.

- before
- of
- from
- none of the above

38. Choose the indirect speech for the following direct sentence.
He said, 'I have been waiting for ages.'
- He said that he has been waiting for ages.
 - He says that he has been waiting for ages.
 - He said that he had been waiting for ages.
 - He said that he is being waiting for ages.

39. Fill in the blank from given options.
By next July, I _____ in this office for ten years.

- worked
- will have been working
- will work
- will be worked

40. Choose the correct active form of the sentence.

They were seen to go out.

- He saw them go out.
- They were seen to go out.
- I saw them go out.
- We saw them go out.

41. Complete the sentence with proper preposition.

We usually finish work early _____ Fridays.

- on
- during
- at
- in

42. Select the most appropriate option for the following sentence.

She wrote this article _____ her holiday.

- on
- in
- during
- by

43. Identify the correct spelling from the options given below.

- Entrepreneur
- Enterpranore
- Enterprenure
- Entraprenure

44. Fill the correct form of verb in the given sentence.

Either of these two pens _____ good.

- is
- have
- are
- has

45. What does nefarious mean ?

- Extremely wealthy
- Morally bad
- Honest
- Very fearful

46. If the perimeter and the area of a circle are numerically equal, then the radius of the circle is

- (a) 4 unit (b) 2 unit
(c) 7 unit (d) π unit

47. Find the missing number (?) from the following figure.

12	12	18
16	12	20
5	12	?
197	156	366

- (a) 6 (b) -8
(c) -6 (d) 8

48. If all the sides of a parallelogram are equal and one angle is a right angle, then it is called as

- (a) Trapezium (b) Square
(c) Rectangle (d) Rhombus

49. Find the odd number out.

1, 2, 4, 8, 16, 32, 64, 96

- (a) 4 (b) 96
(c) 32 (d) 64

50. What type of process is decision-making ?

- (a) Social process
(b) Somatic process
(c) Intellectual process
(d) Psychological process

51. How many times from 4 p.m. to 10 p.m. the hands are at right angles ?

- (a) 11 (b) 6
(c) 9 (d) 10

52. In the following table, what will come at the place of X ?

8	5	7	6
9	7	8	2
3	4	7	12
6	10	X	6

- (a) 3 (b) 8
(c) 2 (d) 4

46. यदि एक वृत्त की परिधि और क्षेत्रफल संख्यात्मक रूप से समान है, तो वृत्त का त्रिज्या है

- (a) 4 इकाई (b) 2 इकाई
(c) 7 इकाई (d) π इकाई

47. निम्नलिखित चित्र में से लुप्त संख्या (?) ज्ञात कीजिए ।

12	12	18
16	12	20
5	12	?
197	156	366

- (a) 6 (b) -8
(c) -6 (d) 8

48. यदि किसी समान्तर चतुर्भुज की सभी भुजाएँ बराबर हों और एक कोण समकोण हो, तो उसे क्या कहते हैं ?

- (a) समलम्ब (b) वर्ग
(c) आयत (d) समचतुर्भुज

49. विषम संख्या प्राप्त कीजिए ।

1, 2, 4, 8, 16, 32, 64, 96

- (a) 4 (b) 96
(c) 32 (d) 64

50. निर्णय लेना किस प्रकार की प्रक्रिया है ?

- (a) सामाजिक प्रक्रिया
(b) दैहिक प्रक्रिया
(c) बौद्धिक प्रक्रिया
(d) मनोवैज्ञानिक प्रक्रिया

51. 4:00 बजे अपराह्न से 10:00 बजे अपराह्न के मध्य कितनी बार सूइयाँ 90° का कोण बनाती हैं ?

- (a) 11 (b) 6
(c) 9 (d) 10

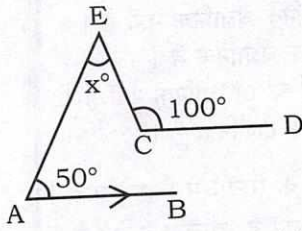
52. निम्नलिखित सारणी में X के स्थान पर क्या आयेगा ?

8	5	7	6
9	7	8	2
3	4	7	12
6	10	X	6

- (a) 3 (b) 8
(c) 2 (d) 4

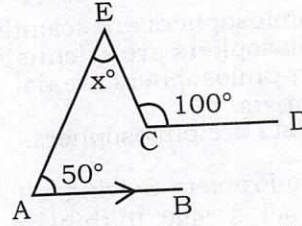


53. In the following figure if $AB \parallel CD$. Find the value of x° .



- (a) 80° (b) 100°
(c) 60° (d) 50°
54. Find the next term of the series.
0, 4, 18, 48, 100, ...
(a) 160 (b) 180
(c) 120 (d) 170
55. Which of the following pairs is NOT correctly matched?
(a) Skinner - Operant Conditioning
(b) Lewin - Field Theory
(c) Kohler - Insight Theory
(d) Pavlov - Stimulus Response Bond Theory
56. Two persons A and B working together, can dig a trench in 8 hours, while A alone can dig it in 12 hours. In how many hours B alone can dig the same trench?
(a) 26 hours (b) 30 hours
(c) 24 hours (d) 28 hours
57. A retailer buys a radio for Rs. 225. His overhead expenses are Rs. 15. He sells the radio for Rs. 300. The profit percent of the retailer is
(a) 25% (b) 52%
(c) 10% (d) 50%
58. Which one is different from the rest three?
(a) RQPO (b) WXUV
(c) NMLK (d) UTSR
59. Among five boys A is taller than B but not taller than C. D is taller than C but not taller than E. If these boys are standing in a row in increasing order of their heights, then who will be at first place?
(a) C (b) D
(c) E (d) B

53. निम्नलिखित चित्र में यदि $AB \parallel CD$ है, तो x° का मान होगा



- (a) 80° (b) 100°
(c) 60° (d) 50°
54. श्रेणी 0, 4, 18, 48, 100, ... का अगला पद ज्ञात कीजिए।
(a) 160 (b) 180
(c) 120 (d) 170
55. निम्नलिखित युग्मों में से कौन-सा सही सुमेलित नहीं है ?
(a) स्किनर - सक्रिय अनुबन्धन
(b) लेविन - क्षेत्र सिद्धान्त
(c) कोहलर - अंतर्दृष्टि सिद्धान्त
(d) पावलव - उद्दीपन अनुक्रिया अनुबन्ध सिद्धान्त
56. दो व्यक्ति A और B एक साथ काम करते हुए एक गड्ढा 8 घण्टे में खोद सकते हैं, जबकि A अकेले इसे 12 घण्टे में खोद सकता है। B अकेले इस गड्ढे को कितने घण्टे में खोद सकता है ?
(a) 26 घण्टे (b) 30 घण्टे
(c) 24 घण्टे (d) 28 घण्टे
57. एक खुदरा विक्रेता 225 रुपये में एक रेडियो खरीदता है। उसका ऊपरी खर्च 15 रुपये हैं। वह रेडियो 300 रुपये में बेचता है। खुदरा विक्रेता का लाभ प्रतिशत है
(a) 25% (b) 52%
(c) 10% (d) 50%
58. शेष तीनों में से कौन भिन्न है ?
(a) RQPO (b) WXUV
(c) NMLK (d) UTSR
59. पाँच लड़कों में A, B से लम्बा है किन्तु C से लम्बा नहीं है। D, C से लम्बा है किन्तु E से लम्बा नहीं है। यदि इन लड़कों को एक पंक्ति में इनकी बढ़ती लम्बाई के क्रम में खड़ा किया जाय, तो प्रथम स्थान पर कौन होगा ?
(a) C (b) D
(c) E (d) B



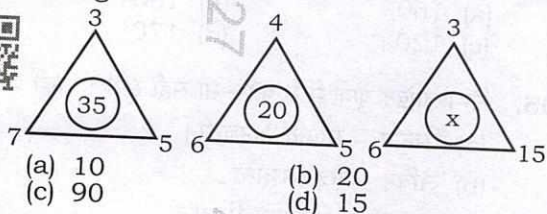
60. If "No scientists are philosophers" is true, which one of the following propositions is true ?

- (a) No non-philosophers are scientists.
 (b) Some philosophers are scientists.
 (c) Some non-philosophers are not non-scientists.
 (d) All scientists are philosophers.

61. In reference to Problem-Solving, who said, "to act is easy, to think is hard." ?

- (a) Jean Paul (b) E. M. Forster
 (c) Thompson (d) Goethe

62. Find the missing number x in the third triangle.



63. Find the missing number in the following number series.

3, 5, 8, 10, ?, 15, 18, 20

- (a) 14 (b) 11
 (c) 13 (d) 12

64. What is 'star bursting' ?

- (a) It is used for good communication
 (b) It is a method of measurement
 (c) It is related to individual's attraction
 (d) It is a creative thinking and brainstorming technique

65. At what angle the hands of a clock are inclined when it is half past 8 ?

- (a) 80° (b) 60°
 (c) 70° (d) 75°

66. For any two sets A and B, what does $A - (A - B)$ equal ?

- (a) B (b) $A \cup B$
 (c) $A - B$ (d) $A \cap B$

67. The graph of a linear equation $2x + 5y = 10$ is a line, which meets the x-axis at the point

- (a) (5, 0) (b) (2, 1)
 (c) (0, 2) (d) $(\frac{1}{2}, 2)$

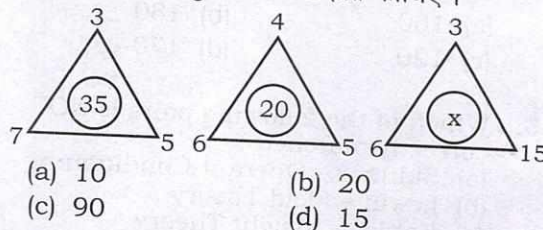
60. यदि "कोई वैज्ञानिक दार्शनिक नहीं है" सत्य है, तो निम्न में से कौन-सा तर्क-वाक्य सत्य है ?

- (a) कोई अदार्शनिक वैज्ञानिक नहीं है।
 (b) कुछ दार्शनिक वैज्ञानिक हैं।
 (c) कुछ अदार्शनिक अवैज्ञानिक नहीं हैं।
 (d) सभी वैज्ञानिक दार्शनिक हैं।

61. समस्या-समाधान के सन्दर्भ में किसने कहा कि "कार्य करना आसान है, सोचना कठिन है।" ?

- (a) जिन पॉल (b) ई. एम. फास्टर
 (c) थाम्पसन (d) गोथी

62. तीसरे त्रिभुज में लुप्त संख्या x ज्ञात कीजिए।



63. निम्नलिखित संख्याओं की शृंखला में लुप्त संख्या ज्ञात कीजिए।

3, 5, 8, 10, ?, 15, 18, 20

- (a) 14 (b) 11
 (c) 13 (d) 12

64. 'स्टार बस्टिंग' क्या है ?

- (a) इसका उपयोग उत्तम संचार के लिए होता है
 (b) यह मापन की एक विधि है
 (c) यह व्यक्ति के आकर्षण से सम्बन्धित है
 (d) यह रचनात्मक सोच और ब्रेनस्टारमिंग तकनीक है

65. 8:30 बजे घड़ी की सुइयाँ कितनी कोण पर झुकी होती है ?

- (a) 80° (b) 60°
 (c) 70° (d) 75°

66. किन्हीं दो समुच्चयों A और B के लिए, $A - (A - B)$ किसके बराबर हैं ?

- (a) B (b) $A \cup B$
 (c) $A - B$ (d) $A \cap B$

67. रेखीय समीकरण $2x + 5y = 10$ का आलेख एक रेखा है, जो x-अक्ष को जिस बिन्दु पर प्रतिच्छेद करता है, वह है

- (a) (5, 0) (b) (2, 1)
 (c) (0, 2) (d) $(\frac{1}{2}, 2)$



68. The ratio of the angles $\angle A$ and $\angle B$ of a non-square rhombus ABCD is 4 : 5, the value of $\angle C$ will be

- (a) 45° (b) 95°
(c) 50° (d) 80°

69. Pointing to a photograph a woman said, "She is the only daughter of my mother's father". How is the woman related to the person in the photograph?

- (a) Grandmother (b) Grand-daughter
(c) Mother (d) Daughter

70. What are the seven secrets of attractive body language?

1. Face
2. Gestures
3. Cultural
4. Head movement
5. Comfortable
6. Eye contact
7. Reflection
8. Posture
9. Territory



10. Mirroring
Select the correct answer from the code given below :

- (a) 1, 4, 6, 7, 8, 9, 10
(b) 3, 4, 5, 6, 7, 8, 9
(c) 2, 3, 4, 5, 6, 7, 8
(d) 1, 2, 4, 6, 8, 9, 10

71. Eleven friends meet at a party. Each one shakes hand with each of the others once. The number of possible hand shakes is

- (a) 55 (b) 22
(c) 65 (d) 56

72. The linear equation $3x - 5y = 15$ has

- (a) two solutions
(b) no solution
(c) a unique solution
(d) infinitely many solutions

68. किसी समचतुर्भुज ABCD, जो वर्ग नहीं है, के कोण $\angle A$ तथा $\angle B$ का अनुपात 4 : 5 है। तब $\angle C$ कितने मान का होगा ?

- (a) 45° (b) 95°
(c) 50° (d) 80°

69. एक महिला ने एक फोटोग्राफ की ओर इंगित करते हुए कहा, "वह मेरी माँ के पिता की एकलौती पुत्री है"। उस महिला का फोटोग्राफ के व्यक्ति से क्या सम्बन्ध है ?

- (a) दादी (b) नातिन
(c) माँ (d) बेटी

70. आकर्षक शारीरिक भाषा के सात रहस्य क्या हैं ?

1. चेहरा
2. हाव-भाव
3. सांस्कृतिक
4. सिर की हरकत
5. आरामदायक
6. आँख से सम्पर्क
7. प्रतिबिम्ब
8. मुद्रा (आसन)
9. इलाका

10. प्रतिरूपण (प्रतिबिम्बित)

नीचे दिए गए कूट की सहायता से सही उत्तर का चयन कीजिए :

- (a) 1, 4, 6, 7, 8, 9, 10
(b) 3, 4, 5, 6, 7, 8, 9
(c) 2, 3, 4, 5, 6, 7, 8
(d) 1, 2, 4, 6, 8, 9, 10

71. ग्यारह मित्र एक पार्टी में मिलते हैं। सभी सबसे एक बार हाथ मिलाते हैं। हस्त-मिलान की सम्भावित संख्या है

- (a) 55 (b) 22
(c) 65 (d) 56

72. रेखीय समीकरण $3x - 5y = 15$ के

- (a) दो हल हैं
(b) कोई हल नहीं है
(c) एक अनोखा समाधान
(d) असीम रूप से कई हल

73. A number is divided by 84 and leaves remainder 37. If this number is divided by 12, then the remainder will be
- (a) 1 (b) 3
(c) 0 (d) 2
74. What should be avoided while replying to e-mails in a group conversation ?
- (a) Replying using "Reply All" feature unnecessarily
(b) Spell-checking the e-mail
(c) Using signature in e-mail
(d) Filling in the subject line
75. If 8th of the month falls three days after Sunday, what day will be on 17th of that month ?
- (a) Tuesday (b) Friday
(c) Thursday (d) Wednesday
76. In a certain language SIMPLE is written as ISPMEL and CHAPTER is written as HCPARET. Then LFWORE stands for which word ?
- (a) FLOREW (b) WORFEL
(c) LOWFER (d) FLOWER
77. Which number has same property as of the following numbers ?
(957, 777, 876)
- (a) 697 (b) 894
(c) 999 (d) 979
78. A, B and C are employed to do a piece of work for Rs. 529. A and C are supposed to finish $\frac{19}{23}$ of the work together. How much shall be paid to B ?
- (a) Rs. 92 (b) Rs. 437
(c) Rs. 82 (d) Rs. 300
79. Every type of communication is affected by its
- (a) Reception (b) Non-regulation
(c) Context (d) Transmission
73. यदि एक संख्या में 84 से भाग दिया जाता है, तो 37 शेषफल बचता है। यदि इसी संख्या को 12 से भाग दिया जाए तो क्या शेषफल होगा ?
- (a) 1 (b) 3
(c) 0 (d) 2
74. समूह संवाद में ईमेल का उत्तर देते समय किससे बचना चाहिए ?
- (a) विना आवश्यकता के "रिप्लाई आल" (Reply All) फीचर के उपयोग से
(b) ईमेल की वर्तनी जाँचने से
(c) ईमेल में हस्ताक्षर के उपयोग से
(d) विषय पंक्ति भरने से
75. यदि महीने की आठ तारीख रविवार के तीन दिन बाद आती है, तो उसी महीने की सत्रह तारीख को कौन-सा दिन होगा ?
- (a) मंगलवार (b) शुक्रवार
(c) बृहस्पतिवार (d) बुधवार
76. एक निश्चित भाषा में SIMPLE को ISPMEL के रूप में लिखा जाता है और CHAPTER को HCPARET के रूप में लिखा जाता है, तो LFWORE किस शब्द के लिए है ?
- (a) FLOREW (b) WORFEL
(c) LOWFER (d) FLOWER
77. किस संख्या में वही विशिष्टता है, जो कि निम्नलिखित संख्याओं में है ?
(957, 777, 876)
- (a) 697 (b) 894
(c) 999 (d) 979
78. A, B और C को 529 रुपये में एक काम करने के लिए नियुक्त किया गया है। A और C को मिलकर काम का $\frac{19}{23}$ भाग पूर्ण करना है। B को कितना भुगतान किया जायेगा ?
- (a) 92 रुपये (b) 437 रुपये
(c) 82 रुपये (d) 300 रुपये
79. प्रत्येक प्रकार का सम्प्रेषण प्रभावित होता है
- (a) अभिग्रहण से (b) गैर-विनियमन से
(c) सन्दर्भ से (d) संचरण से



80. If BLINK is coded as 21291411, then how will GREEN be coded ?

- (a) 29121411 (b) 7185514
(c) 1455178 (d) 8175514

81. Which one of the following is NOT a skill of interpersonal interaction ?

- (a) Positive thinking
(b) Empathy
(c) Administrative power
(d) Courtesy

82. Walking at the rate of 4 km/h a man covers a certain distance in 2 hours 45 min. Running at a speed of 16.5 km/h, the man will cover the same distance in

- (a) 45 min.
(b) 55 min. 15 sec.
(c) 40 min.
(d) 50 min. 15 sec.

83. Find the odd one out from the given alternatives.

- (a) Swastik (b) Pyramids
(c) Sphinx (d) Mummy

84. The ages of Ravish and Shikha are in the ratio 3 : 8. Six years hence, their ages will be in the ratio 4 : 9. The present age of Ravish is

- (a) 15 year (b) 21 year
(c) 18 year (d) 12 year

85. If the simple interest on a sum of money at 5% per annum for 3 years is Rs. 1,200, find the compound interest on the same sum for the same period at the same rate.

- (a) Rs. 1,400 (b) Rs. 1,690
(c) Rs. 1,261 (d) Rs. 1,575

86. At present, the mother's age is three times the daughter's age. After twelve years the age of the mother will be twice of her daughter. At present what is the daughter's age ?

- (a) 16 year (b) 12 year
(c) 18 year (d) 14 year

80. यदि BLINK को 21291411 के रूप में कूट किया जाता है, तो GREEN को किस प्रकार से कूटित किया जाएगा ?

- (a) 29121411 (b) 7185514
(c) 1455178 (d) 8175514

81. निम्नलिखित में से कौन-सा अन्तर्वैयक्तिक पारस्परिक क्रिया का कौशल नहीं है ?

- (a) सकारात्मक सोच
(b) समानुभूति
(c) प्रशासनिक शक्ति
(d) शिष्टाचार

82. 4 कि.मी. प्रति घण्टे की गति से चलने पर एक आदमी 2 घण्टे 45 मिनट में एक निश्चित दूरी तय करता है। 16.5 कि.मी. प्रति घण्टे की गति से दौड़ने पर वह आदमी समान दूरी को कितने समय में तय करेगा ?

- (a) 45 मिनट
(b) 55 मिनट 15 सेकण्ड
(c) 40 मिनट
(d) 50 मिनट 15 सेकण्ड

83. नीचे दिये गये विकल्पों में से भिन्न विकल्प को चुनिए।

- (a) स्वास्तिक (b) पिरामिड
(c) स्फिंक्स (d) ममी

84. रवीश और शिखा की आयु का अनुपात 3 : 8 है। यदि 6 वर्ष बाद उनकी आयु का अनुपात 4 : 9 होगा, तो वर्तमान में रवीश की आयु क्या होगी ?

- (a) 15 वर्ष (b) 21 वर्ष
(c) 18 वर्ष (d) 12 वर्ष

85. यदि किसी धनराशि पर 3 वर्षों के लिए 5% प्रतिवर्ष की दर से साधारण ब्याज 1,200 रुपये है, तो उसी अवधि के लिए उसी दर से उसी धनराशि पर चक्रवृद्धि ब्याज है

- (a) 1,400 रुपये (b) 1,690 रुपये
(c) 1,261 रुपये (d) 1,575 रुपये

86. इस समय माँ की आयु उनकी बेटी की आयु से तीन गुनी है। बारह वर्षों के बाद माँ की आयु बेटी की आयु की दोगुनी होगी। इस समय बेटी की आयु क्या है ?

- (a) 16 वर्ष (b) 12 वर्ष
(c) 18 वर्ष (d) 14 वर्ष

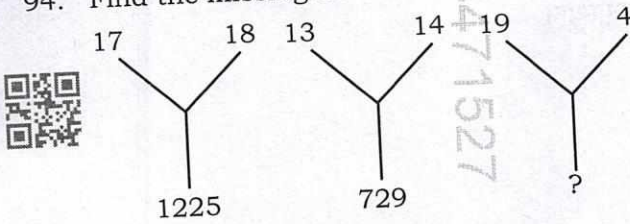




87. Two numbers are in the ratio 3 : 5. If each number is increased by 10, the ratio becomes 5 : 7. The numbers are
- (a) 12, 20 (b) 18, 30
(c) 3, 5 (d) 15, 25
88. Deepak said to Nitin, "that boy playing with the football is the younger of the two brothers of the daughter of my father's wife". How is the boy playing football related to Deepak ?
- (a) Brother (b) Nephew
(c) Son (d) Cousin
89. A good communicator begins his/her presentation with a/an
- (a) Complex question
(b) Ice-breaker
(c) Non-sequitur
(d) Repetitive phrase
90. Which one number is like the given number set ?
(363, 489, 579)
- (a) 382 (b) 562
(c) 281 (d) 471
91. Pointing a photograph, a man said, "I have no brother and sister but the father of that man is the son of my father". Whose photograph is it ?
- (a) His father's
(b) His own
(c) His son's
(d) His nephew's
92. When the mirror image of a watch was seen, it showed 3 : 15. What was the real time ?
- (a) 9 : 45 (b) 3 : 15
(c) 8 : 45 (d) 7 : 45
93. The least perfect square which is divisible by 3, 4, 5, 6, 8 is
- (a) 1200 (b) 3600
(c) 900 (d) 2500
87. दो संख्याएँ 3 : 5 के अनुपात में हैं। यदि प्रत्येक संख्या में 10 की वृद्धि की जाय तो अनुपात 5 : 7 हो जाता है, तो संख्याएँ हैं
- (a) 12, 20 (b) 18, 30
(c) 3, 5 (d) 15, 25
88. दीपक ने नितिन से कहा, "फुटबॉल खेल रहा वह लड़का मेरे पिता की पत्नी की बेटी के दो भाइयों में से छोटा है"। फुटबॉल खेल रहा लड़का दीपक से किस तरह से सम्बन्धित है ?
- (a) भाई (b) भतीजा
(c) बेटा (d) चचेरा भाई
89. एक अच्छा सम्प्रेषक अपना प्रस्तुतीकरण निम्नलिखित में से किससे आरंभ करता है ?
- (a) जटिल प्रश्न
(b) सुगम पूर्वाभास (परिचय सूत्र)
(c) नानुमिति (अतार्किक निष्कर्ष)
(d) पुनरावर्ती पदबंध
90. कौन-सी एक संख्या निम्नलिखित संख्याओं के समूह के समान है ?
(363, 489, 579)
- (a) 382 (b) 562
(c) 281 (d) 471
91. एक फोटोग्राफ की ओर संकेत करते हुए एक आदमी ने कहा, "मेरा कोई भाई या बहन नहीं है परन्तु उस आदमी का पिता मेरे पिता का पुत्र है"। यह फोटोग्राफ किसका है ?
- (a) उसके पिता का
(b) उसका अपना
(c) उसके पुत्र का
(d) उसके भतीजे का
92. जब एक घड़ी का दर्पण प्रतिबिम्ब देखा गया, तो 3 : 15 बज रहा था। वास्तविक समय क्या था ?
- (a) 9 : 45 (b) 3 : 15
(c) 8 : 45 (d) 7 : 45
93. सबसे छोटा पूर्ण वर्ग जो 3, 4, 5, 6, 8 से विभाज्य है
- (a) 1200 (b) 3600
(c) 900 (d) 2500



94. Find the missing number.



- (a) 542 (b) 641
(c) 639 (d) 529

95. The choice of communication partners is influenced by factors of

- (a) Secrecy, dissonance, deception
(b) Proximity, utility, loneliness
(c) Utility, secrecy, dissonance
(d) Dissimilarity, dissonance, deviance

96. A 280 meter long train is moving at 60 km/h. The time taken by the train to cross a 220 meter long tunnel, is

- (a) 20 sec. (b) 30 sec.
(c) 15 sec. (d) 25 sec.

97. From the following alternatives find the one that does NOT belong to the rest.

- (a) CGF (b) JNR
(c) DHG (d) HLK

98. If Sunday falls on the third date of a month, then which date will fall after three days of fourth Wednesday of the same month ?

- (a) 27 (b) 31
(c) 30 (d) 29

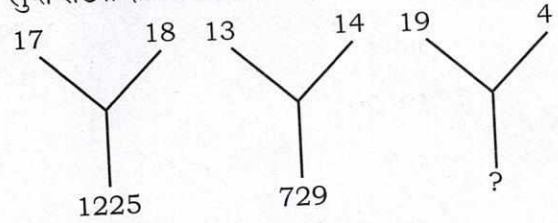
99. What will be the next number in the following number series ?
48, 24, 72, 36, 108, ?

- (a) 72 (b) 64
(c) 36 (d) 54

100. Which number will come in the place of question mark ?
143, 275, 495, ?

- (a) 561 (b) 683
(c) 243 (d) 927

94. लुप्त संख्या ज्ञात कीजिए ।



- (a) 542 (b) 641
(c) 639 (d) 529

95. सम्प्रेषण प्रतिभागियों का चयन किस कारक द्वारा प्रभावित होता है ?

- (a) गुप्तता, असंवादिता, छल
(b) सान्निध्य, उपयोगिता, अकेलापन
(c) उपयोगिता, गुप्तता, असंवादिता
(d) विषमता, असंवादिता, विचलन

96. 280 मीटर लम्बी एक रेलगाड़ी 60 कि.मी. प्रति घण्टे की गति से चल रही है। 220 मीटर लम्बी सुरंग को पार करने में रेलगाड़ी को कितना समय लगेगा ?

- (a) 20 सेकण्ड (b) 30 सेकण्ड
(c) 15 सेकण्ड (d) 25 सेकण्ड

97. निम्नलिखित विकल्पों में से वह विकल्प चुनिए जो शेष विकल्पों में से सम्बन्धित नहीं है ।

- (a) CGF (b) JNR
(c) DHG (d) HLK

98. यदि एक मास की तीसरी तिथि को रविवार है, तो उसी मास के चौथे बुधवार के तीन दिन बाद कौन-सी तिथि होगी ?

- (a) 27 (b) 31
(c) 30 (d) 29

99. निम्नलिखित संख्या श्रृंखला में अगली संख्या क्या होगी ?

- 48, 24, 72, 36, 108, ?
(a) 72 (b) 64
(c) 36 (d) 54

100. प्रश्न चिन्ह के स्थान पर कौन-सी संख्या आयेगी ?
143, 275, 495, ?

- (a) 561 (b) 683
(c) 243 (d) 927



SPACE FOR ROUGH WORK

रफ कार्य के लिए स्थान



SPACE FOR ROUGH WORK

रफ कार्य के लिए स्थान



447152



DO NOT OPEN THIS QUESTION BOOKLET UNTIL YOU ARE TOLD TO DO SO.

2025

CODE : CIZU-2-24

SUBJECT : GENERAL STUDIES - II

Question Booklet Bar Code Serial No.

प्रश्न-पुस्तिका बार कोड क्रम संख्या



4471527

Time : 2 Hours

Max. Marks : 200

Write your Roll Number
in the box

In numbers

In words

--	--	--	--	--	--	--	--

--

To mark Answer use **Black Ball-Point Pen** only.

Candidate must read all the instructions carefully before writing the answers on the Answer-Sheet.

**Signature
of
Invigilator**

You are to mark all your answers on **Answer-Sheet only**. After the examination is over, handover the **Answer-Sheet to the Invigilator** and receive candidate's copy (Blue) from the Invigilator.

IMPORTANT INSTRUCTIONS

1. Answer **all** questions. **All** questions carry equal marks. OMR Answer-Sheet and Question Booklet which carry same Bar Code Serial Number, are kept together inside a sealed transparent polythene packet.
2. **Immediately after opening the transparent sealed polythene packet, again check that the Printed Bar Code Serial Number of Question Booklet and OMR Answer-Sheet is same and all the pages are printed properly. If the Printed Bar Code Serial Number of Question Booklet and OMR Answer-Sheet is not same or there is any other discrepancy in it, return it to the Invigilator and get another sealed polythene packet of Question Booklet and OMR Answer-Sheet.**
3. **Only after ensuring that the printed Bar Code Serial Number of the Question Booklet and OMR Answer-Sheet is same**, candidate has to indicate the correct Roll Number, Subject and Subject Code on the OMR Answer-Sheet at the specified place, otherwise the OMR Answer-Sheet will not be evaluated and the candidate will be solely responsible for it.
4. Do not write anything on the cover page of the Question Booklet except Roll Number. Use the space for rough work given in the last two pages of the Question Booklet.
5. **This Question Booklet contains 100 questions.** Each question has **four (4)** options which are given below the question. Only one option is correct out of the four. You are required to darken the circle corresponding to the alternative which you consider to be the correct or most appropriate answer in the OMR Answer-Sheet by **Black Ball-Point Pen**.
6. In this Question Booklet (Except Q. Nos. 1 - 45) all questions are printed in both Hindi and English languages. In case of any ambiguity in the bilingual (Hindi/English) question, the English version of the question shall prevail.
7. **Penalty for wrong answers :**

THERE WILL BE PENALTY FOR WRONG ANSWERS MARKED BY A CANDIDATE IN THE OMR ANSWER SHEET.

- (i) There are four alternatives for the answer to every question. For each question for which a wrong answer has been given by the candidate, **one-third** of the marks assigned to that question will be deducted as penalty.
- (ii) If a candidate gives more than one answer, it will be treated as a **wrong answer**, even if one of the given answers happens to be correct and there will be same penalty as above to that question.
- (iii) If a question is left blank, i.e., no answer is given by the candidate, there will be **no penalty** for that question.

Note : Please check that the Bar Code Serial Number printed on the Question Booklet and the OMR Answer-Sheet is same, in case of any discrepancy in it, get it changed with another set of sealed polythene packet of Question Booklet and OMR Answer-Sheet.

ध्यान दें : अनुदेशों का हिन्दी रूपांतर इस प्रश्न-पुस्तिका के प्रथम पृष्ठ पर छपा है ।

\$ 16 \$



जब तक आपको यह प्रश्न-पुस्तिका खोलने को नहीं कहा जाए तब तक न खोलें ।

2025

कोड : CIZU-1 - 23

विषय : सामान्य अध्ययन - I

Question Booklet Bar Code Serial No.

प्रश्न-पुस्तिका बार कोड क्रम संख्या



2471237

समय : 2 घण्टे

पूर्णांक : 200

अपना अनुक्रमांक सामने बॉक्स में लिखें

अंकों में

शब्दों में

--	--	--	--	--	--	--	--	--	--

प्रश्नों के उत्तर के लिए केवल काले बॉल-प्वाइंट पेन का प्रयोग करें ।

अभ्यर्थी उत्तर-पत्रक पर उत्तर देने से पहले सभी अनुदेशों को सावधानीपूर्वक पढ़ लें ।

अन्तरीक्षक
के हस्ताक्षर

आपको अपने सभी उत्तर केवल उत्तर-पत्रक पर ही देने हैं । परीक्षा के उपरांत उत्तर-पत्रक अन्तरीक्षक को सौंप दें तथा अभ्यर्थी प्रति (नीली) अन्तरीक्षक से प्राप्त कर लें ।

महत्वपूर्ण अनुदेश

- सभी प्रश्नों के उत्तर दें । सभी प्रश्नों के अंक समान हैं । ओ.एम.आर. उत्तर-पत्रक और प्रश्न-पुस्तिका जिनकी बार कोड क्रम संख्या एकसमान है, सीलड पारदर्शी पॉलीथीन पैकेट के अन्दर एक साथ रखी है ।
- पारदर्शी सीलड पॉलीथीन पैकेट खोलने के तुरन्त बाद, पुनः जाँच करके देख लें कि प्रश्न-पुस्तिका एवं ओ.एम.आर. उत्तर-पत्रक पर मुद्रित बार कोड क्रम संख्या एकसमान हैं तथा सभी पृष्ठ भली-भाँति छपे हुए हैं । यदि प्रश्न-पुस्तिका एवं ओ.एम.आर. उत्तर-पत्रक पर मुद्रित बार कोड क्रम संख्या एकसमान न हों या इसमें अन्य कोई विसंगति हो, तो इसे कक्ष निरीक्षक को वापस कर प्रश्न-पुस्तिका एवं ओ.एम.आर. उत्तर-पत्रक का दूसरा सीलड पॉलीथीन पैकेट प्राप्त कर लें ।
- अभ्यर्थी प्रश्न-पुस्तिका एवं ओ.एम.आर. उत्तर-पत्रक पर मुद्रित बार कोड क्रम संख्या के एकसमान होने की पुष्टि करने के उपरान्त ही ओ.एम.आर. उत्तर-पत्रक पर अपना सही अनुक्रमांक, विषय एवं विषय कोड निर्धारित स्थान पर अंकित करें, अन्यथा ओ.एम.आर. उत्तर-पत्रक का मूल्यांकन नहीं किया जाएगा और उसकी जिम्मेदारी स्वयं अभ्यर्थी की होगी ।
- अनुक्रमांक के अलावा प्रश्न-पुस्तिका के कवर पेज पर कुछ न लिखें । रफ कार्य के लिए प्रश्न-पुस्तिका के अन्त में दिए गए दो पृष्ठों का प्रयोग करें ।
- इस प्रश्न-पुस्तिका में 150 प्रश्न हैं । प्रत्येक प्रश्न के चार (4) वैकल्पिक उत्तर प्रश्न के नीचे दिए गए हैं । इन चारों में से केवल एक ही सही उत्तर है । जिस उत्तर को आप सही या सबसे उचित समझते हैं, ओ.एम.आर. उत्तर-पत्रक में उसके अक्षर वाले वृत्त को काले बॉल-प्वाइंट पेन से पूरा काला कर दें ।
- इस प्रश्न-पुस्तिका में सभी प्रश्न हिन्दी व अंग्रेज़ी दोनों भाषाओं में मुद्रित हैं । द्विभाषी (हिन्दी/अंग्रेज़ी) में किसी भी प्रश्न में अस्पष्टता के मामले में प्रश्न का अंग्रेज़ी संस्करण प्रभावी होगा ।
- ग़लत उत्तरों के लिए दण्ड :
ओ.एम.आर. उत्तर-पत्रक में अभ्यर्थी द्वारा दिए गए ग़लत उत्तरों के लिए दण्ड दिया जाएगा ।
(i) प्रत्येक प्रश्न के लिए चार वैकल्पिक उत्तर हैं । अभ्यर्थी द्वारा प्रत्येक प्रश्न के लिए दिए गए एक ग़लत उत्तर के लिए प्रश्न हेतु नियत किए गए अंकों का एक-तिहाई दण्ड के रूप में काटा जाएगा ।
(ii) यदि कोई अभ्यर्थी एक से अधिक उत्तर देता है, तो इसे ग़लत उत्तर माना जाएगा, यद्यपि दिए गए उत्तरों में से एक उत्तर सही होता है, फिर भी उस प्रश्न के लिए उपर्युक्तानुसार ही उसी तरह का दण्ड दिया जाएगा ।
(iii) यदि अभ्यर्थी द्वारा कोई प्रश्न हल नहीं किया जाता है, अर्थात् अभ्यर्थी द्वारा उत्तर नहीं दिया जाता है, तो उस प्रश्न के लिए कोई दण्ड नहीं दिया जाएगा ।

नोट : कृपया प्रश्न-पुस्तिका एवं ओ.एम.आर. उत्तर-पत्रक पर मुद्रित बार कोड क्रम संख्या के एकसमान होने की जाँच कर ली जाए तथा बार कोड क्रम संख्या के एकसमान न होने की दशा में उसे बदलकर प्रश्न-पुस्तिका एवं ओ.एम.आर. उत्तर-पत्रक का दूसरा सीलड पॉलीथीन पैकेट प्राप्त कर लिया जाए ।

Note : English version of the instructions is printed on the back cover of this Question Booklet.



1. Given below are two statements, one is labelled as Assertion (A) and the other as Reason (R).

Assertion (A) : The interior part of Australia is desert and semi-desert.

Reason (R) : Northern Australia is situated in the temperate zone.

Select the correct answer from the code given below :

Code :

- (a) Both (A) and (R) are true, but (R) is not the correct explanation of (A)
 (b) (A) is false, but (R) is true
 (c) (A) is true, but (R) is false
 (d) Both (A) and (R) are true and (R) is the correct explanation of (A)

2. Given below are two statements, one is labelled as Assertion (A) and the other as Reason (R).

Assertion (A) : India is the second largest mobile gaming market in the world.

Reason (R) : There are more than 950 million internet users in India.

Select the correct answer from the code given below :

Code :

- (a) Both (A) and (R) are true, but (R) is not the correct explanation of (A)
 (b) (A) is false, but (R) is true
 (c) (A) is true, but (R) is false
 (d) Both (A) and (R) are true and (R) is the correct explanation of (A)

3. Given below are two statements, one is labelled as Assertion (A) and the other as Reason (R).

Assertion (A) : Babur wrote Tuzk-e-Babri in Chagatai Turki.

Reason (R) : Turki was the official language of the Mughal Court.

Select the correct answer from the code given below :

Code :

- (a) Both (A) and (R) are true, but (R) is not the correct explanation of (A)
 (b) (A) is false, but (R) is true
 (c) (A) is true, but (R) is false
 (d) Both (A) and (R) are true and (R) is the correct explanation of (A)

1. नीचे दो कथन दिए गए हैं, जिनमें से एक को अभिकथन (A) तथा दूसरे को कारण (R) कहा गया है।

अभिकथन (A) : ऑस्ट्रेलिया का भीतरी भाग मरुस्थलीय तथा अर्द्ध-मरुस्थलीय है।

कारण (R) : उत्तरी ऑस्ट्रेलिया समशीतोष्ण कटिबंध क्षेत्र में स्थित है।

नीचे दिए गए कूट से सही उत्तर चुनिए :

कूट :

- (a) (A) और (R) दोनों सही हैं, किन्तु (R), (A) की सही व्याख्या नहीं करता है
 (b) (A) गलत है, किन्तु (R) सही है
 (c) (A) सही है, किन्तु (R) गलत है
 (d) (A) और (R) दोनों सही हैं और (R), (A) की सही व्याख्या करता है

2. नीचे दो कथन दिए गए हैं, जिनमें एक को अभिकथन (A) तथा दूसरे को कारण (R) कहा गया है।

अभिकथन (A) : भारत विश्व का दूसरा सबसे बड़ा मोबाइल गेमिंग बाजार है।

कारण (R) : भारत में 950 मिलियन से ज्यादा इंटरनेट के उपयोगकर्ता हैं।

नीचे दिए गए कूट से सही उत्तर चुनिए :

कूट :

- (a) (A) और (R) दोनों सही हैं, किन्तु (R), (A) की सही व्याख्या नहीं करता है
 (b) (A) गलत है, किन्तु (R) सही है
 (c) (A) सही है, किन्तु (R) गलत है
 (d) (A) और (R) दोनों सही हैं और (R), (A) की सही व्याख्या करता है

3. नीचे दो कथन दिए गए हैं, जिनमें एक को अभिकथन (A) तथा दूसरे को कारण (R) कहा गया है।

अभिकथन (A) : बाबर ने चगताई तुर्की में तुजुक-ए-बाबरी लिखा।

कारण (R) : तुर्की मुगल दरबार की राजभाषा थी।

नीचे दिए गए कूट से सही उत्तर चुनिए :

कूट :

- (a) (A) और (R) दोनों सही हैं, किन्तु (R), (A) की सही व्याख्या नहीं करता है
 (b) (A) गलत है, किन्तु (R) सही है
 (c) (A) सही है, किन्तु (R) गलत है
 (d) (A) और (R) दोनों सही हैं और (R), (A) की सही व्याख्या करता है

4. Match List - I with List - II and choose the correct answer by using the code given below the lists.



List - I
(Coal Field)

- A. Appalachian
B. Lancashire
C. Ruhr
D. Kuzbass

List - II
(Country)

1. England
2. Germany
3. Russia
4. United States of America

Code :

- | | A | B | C | D |
|-----|---|---|---|---|
| (a) | 4 | 1 | 2 | 3 |
| (b) | 1 | 4 | 3 | 2 |
| (c) | 1 | 4 | 2 | 3 |
| (d) | 4 | 1 | 3 | 2 |

5. With reference to 'Ecosystem', which of the following statements is/are correct ?

- Green plants in terrestrial ecosystem capture about 1% of energy of the sunlight that falls on their leaves.
- Around 10% of organic matter reaches to the next higher level of consumers.

Select the correct answer from the code given below :

Code :

- (a) Only 2 (b) Neither 1 nor 2
(c) Both 1 and 2 (d) Only 1

6. Which of the following events took place in the year 1911 ?

- Partition of Bengal revoked
- Transfer of capital from Calcutta to Delhi
- Lucknow pact between Congress and Muslim League

Select the correct answer from the code given below :

Code :

- (a) 1 and 2
(b) Only 3
(c) 2 and 3
(d) Only 1

4. सूची - I को सूची - II से सुमेलित कीजिए और सूचियों के नीचे दिए गए कूट का प्रयोग कर सही उत्तर चुनिए ।

सूची - I
(कोयला क्षेत्र)

- A. अपालेशियन
B. लंकाशायर
C. रूर
D. कुज़बास

सूची - II
(देश)

1. इंग्लैंड
2. जर्मनी
3. रूस
4. संयुक्त राज्य अमेरिका

कूट :

- | | A | B | C | D |
|-----|---|---|---|---|
| (a) | 4 | 1 | 2 | 3 |
| (b) | 1 | 4 | 3 | 2 |
| (c) | 1 | 4 | 2 | 3 |
| (d) | 4 | 1 | 3 | 2 |

5. 'पारिस्थितिकी तंत्र' के संदर्भ में, निम्नलिखित में से कौन-सा/से कथन सही है/हैं ?

- हरे पौधे, स्थलीय पारिस्थितिकी तंत्र में अपनी पत्तियों पर पड़ने वाली सूर्य की रोशनी की लगभग 1% ऊर्जा को ग्रहण करते हैं ।
- लगभग 10% कार्बनिक पदार्थ उपभोक्ताओं के अगले उच्च स्तर तक पहुँचता है ।

नीचे दिए गए कूट से सही उत्तर चुनिए :

कूट :

- (a) केवल 2 (b) न तो 1 न ही 2
(c) 1 और 2 दोनों (d) केवल 1

6. निम्नलिखित में से कौन-सी घटनाएँ वर्ष 1911 में घटित हुईं ?

- बंगाल का विभाजन रद्द करना
- राजधानी का कलकत्ता से दिल्ली परिवर्तन
- कांग्रेस तथा मुस्लिम लीग के बीच लगनऊ समझौता

कूट :

- (a) 1 और 2
(b) केवल 3
(c) 2 और 3
(d) केवल 1



7. Consider the following events and arrange them in correct chronological order.

1. Poona Pact
2. End of Civil Disobedience Movement
3. Gandhi-Irwin Pact
4. Second Round Table Conference

Select the correct answer from the code given below :

Code :

- (a) 3, 4, 2, 1 (b) 4, 3, 1, 2
(c) 4, 3, 2, 1 (d) 3, 4, 1, 2

8. As per the India State of Forest Report 2023, which of the following districts in Uttar Pradesh had forest over more than 20% of their total area ?

1. Bahraich
2. Chandauli
3. Shravasti

Select the correct answer from the code given below :

Code :

- (a) 1 and 2 (b) Only 3
(c) 2 and 3 (d) Only 1

9. Which of the following pairs is/are correctly matched ?

(Coal Producing Area) (State)

- | | | |
|-------------|---|-------------------|
| 1. Maolong | - | Arunachal Pradesh |
| 2. Raniganj | - | West Bengal |
| 3. Ramgarh | - | Jharkhand |
| 4. Talcher | - | Odisha |

Select the correct answer from the code given below :

Code :

- (a) Only 1 and 2 (b) Only 2, 3 and 4
(c) Only 1, 2 and 3 (d) Only 1

10. With reference to 'Delhi Government's Bio-decomposer and Spray Programme', which of the following statements is/are correct ?

1. The Bio-decomposer solution is provided free of cost to farmers to help convert stubble into manure.
2. The Bio-decomposer solution is prepared using a mix of several fungi.

Select the correct answer using the code given below :

Code :

- (a) Only 2 (b) Neither 1 nor 2
(c) Both 1 and 2 (d) Only 1

7. निम्नलिखित घटनाओं पर विचार कीजिए तथा इन्हें सही कालक्रमानुसार क्रम में व्यवस्थित कीजिए ।

1. पूना समझौता
2. सविनय अवज्ञा आन्दोलन की समाप्ति
3. गाँधी-इर्विन समझौता
4. द्वितीय गोल मेज़ सम्मेलन

नीचे दिए गए कूट से सही उत्तर चुनिए :

कूट :

- (a) 3, 4, 2, 1 (b) 4, 3, 1, 2
(c) 4, 3, 2, 1 (d) 3, 4, 1, 2

8. भारत वन स्थिति रिपोर्ट 2023 के अनुसार, उत्तर प्रदेश के निम्नलिखित में से किन जिलों में उनके कुल क्षेत्रफल के 20% से अधिक पर वन है ?

1. बहराइच
2. चंदौली
3. श्रावस्ती

नीचे दिए गए कूट से सही उत्तर चुनिए :

कूट :

- (a) 1 और 2 (b) केवल 3
(c) 2 और 3 (d) केवल 1

9. निम्नलिखित युग्मों में से कौन-सा/से सही सुमेलित है/हैं ?

(कोयला उत्पादक क्षेत्र) (राज्य)

- | | | |
|------------|---|----------------|
| 1. मावलॉग | - | अरुणाचल प्रदेश |
| 2. रानीगंज | - | पश्चिम बंगाल |
| 3. रामगढ़ | - | झारखण्ड |
| 4. तालचेर | - | ओडिशा |

नीचे दिए गए कूट से सही उत्तर चुनिए :

कूट :

- (a) केवल 1 और 2 (b) केवल 2, 3 और 4
(c) केवल 1, 2 और 3 (d) केवल 1

10. 'दिल्ली सरकार के बायो-डीकंपोजर एवं स्प्रे कार्यक्रम' के संदर्भ में निम्नलिखित में से कौन-सा/से कथन सही है/हैं ?

1. पाराली को खाद में बदलने में मदद के लिए किसानों को बायो-डीकंपोजर घोल मुक्त में उपलब्ध कराया जाता है ।
2. बायो-डीकंपोजर घोल कई कवकों का उपयोग करके तैयार किया जाता है ।

नीचे दिए गए कूट से सही उत्तर चुनिए :

कूट :

- (a) केवल 2 (b) न तो 1 न ही 2
(c) 1 और 2 दोनों (d) केवल 1

11. With reference to creation of new All India Service, which of the following statements is/are correct ?

1. In the national interest, the Rajya Sabha can pass a resolution for creation of new All India Service.
2. The resolution for creation of new All India Service must be passed by the Rajya Sabha by two-third majority of the total members of the house.

Select the correct answer from the code given below :

Code :

- (a) Only 2 (b) Neither 1 nor 2
(c) Both 1 and 2 (d) Only 1

12. Match List - I with List - II and select the correct answer using the code given below the lists.

List - I
(Disciple)

- A. Kabir
B. Amir
Khusrau
C. Surdas
D. Mardana

List - II
(Guru)

1. Guru Nanak Dev
2. Swami Ramananda
3. Nizamuddin Auliya
4. Vallabhacharya

Code :

- | | A | B | C | D |
|-----|---|---|---|---|
| (a) | 3 | 2 | 4 | 1 |
| (b) | 3 | 2 | 1 | 4 |
| (c) | 2 | 3 | 4 | 1 |
| (d) | 2 | 3 | 1 | 4 |

13. Given below are two statements, one is labelled as Assertion (A) and the other as Reason (R).

Assertion (A) : Investment in human capital yields returns in the future.

Reason (R) : Education and health make people more productive.

Select the correct answer from the code given below :

Code :

- (a) Both (A) and (R) are true, but (R) is not the correct explanation of (A)
(b) (A) is false, but (R) is true
(c) (A) is true, but (R) is false
(d) Both (A) and (R) are true and (R) is the correct explanation of (A)

11. नई अखिल भारतीय सेवा बनाने के संदर्भ में निम्नलिखित में से कौन-सा/से कथन सही है/हैं ?

1. राष्ट्र हित में, राज्य सभा नई अखिल भारतीय सेवा बनाने का प्रस्ताव पारित कर सकती है।
2. नई अखिल भारतीय सेवा बनाने का प्रस्ताव राज्य सभा में कुल सदस्य संख्या के दो-तिहाई बहुमत से पारित होना आवश्यक है।

नीचे दिए गए कूट से सही उत्तर चुनिए :

कूट :

- (a) केवल 2 (b) न तो 1 न ही 2
(c) 1 और 2 दोनों (d) केवल 1

12. सूची - I को सूची - II से सुमेलित कीजिए तथा सूचियों के नीचे दिए गए कूट का प्रयोग कर सही उत्तर चुनिए।

सूची - I
(शिष्य)

- A. कबीर
B. अमीर खुसरो
C. सूरदास
D. मर्दाना

सूची - II
(गुरु)

1. गुरु नानक देव
2. स्वामी रामानन्द
3. निज़ामुद्दीन औलिया
4. वल्लभाचार्य

कूट :

- | | A | B | C | D |
|-----|---|---|---|---|
| (a) | 3 | 2 | 4 | 1 |
| (b) | 3 | 2 | 1 | 4 |
| (c) | 2 | 3 | 4 | 1 |
| (d) | 2 | 3 | 1 | 4 |

13. नीचे दो कथन दिए गए हैं, जिनमें से एक को अभिकथन (A) तथा दूसरे को कारण (R) कहा गया है।

अभिकथन (A) : मानव पूँजी में निवेश से भविष्य में लाभ मिलता है।

कारण (R) : शिक्षा और स्वास्थ्य लोगों को अधिक उत्पादक बनाते हैं।

नीचे दिए गए कूट से सही उत्तर चुनिए :

कूट :

- (a) (A) और (R) दोनों सही हैं, किन्तु (R), (A) की सही व्याख्या नहीं करता है
(b) (A) गलत है, किन्तु (R) सही है
(c) (A) सही है, किन्तु (R) गलत है
(d) (A) और (R) दोनों सही हैं और (R), (A) की सही व्याख्या करता है



14. Match List - I with List - II and choose the correct answer using the code given below the lists.

List - I (Refinery)	List - II (State)
A. Nayara	1. Assam
B. Manali	2. Gujarat
C. Numaligarh	3. Andhra Pradesh
D. Tatipaka	4. Tamil Nadu

Code :

	A	B	C	D
(a)	4	2	3	1
(b)	2	4	1	3
(c)	2	4	3	1
(d)	4	2	1	3

15. Which of the following is/are NOT a dimension of food security ?

1. Availability
2. Accessibility
3. Affordability
4. Accountability

Select the correct answer from the code given below :

Code :

- | | |
|----------------|------------|
| (a) 1 and 2 | (b) Only 4 |
| (c) 2, 3 and 4 | (d) Only 1 |

16. With reference to 'Silver articles', which of the following statements is/are correct ?

1. Silver articles turn black after some time when exposed to air.
2. It happens due to coating of silver sulphide.

Select the correct answer from the code given below :

Code :

- | | |
|------------------|---------------------|
| (a) Only 2 | (b) Neither 1 nor 2 |
| (c) Both 1 and 2 | (d) Only 1 |

14. सूची - I को सूची - II से सुमेलित कीजिए और सूचियों के नीचे दिए गए कूट का प्रयोग कर सही उत्तर चुनिए ।

सूची - I (परिष्करण शाला)	सूची - II (राज्य)
A. नायरा	1. असम
B. मनाली	2. गुजरात
C. नुमालीगढ़	3. आन्ध्र प्रदेश
D. तातीपाका	4. तमिलनाडु

कूट :

	A	B	C	D
(a)	4	2	3	1
(b)	2	4	1	3
(c)	2	4	3	1
(d)	4	2	1	3

15. निम्नलिखित में से कौन-सा/से खाद्य सुरक्षा का आयाम नहीं है/हैं ?

1. उपलब्धता
2. पहुँच
3. सामर्थ्य
4. जवाबदेही

नीचे दिए गए कूट से सही उत्तर चुनिए :

कूट :

- | | |
|---------------|------------|
| (a) 1 और 2 | (b) केवल 4 |
| (c) 2, 3 और 4 | (d) केवल 1 |

16. 'चाँदी की वस्तुओं' के संदर्भ में, निम्नलिखित में से कौन-सा/से कथन सही है/हैं ?

1. चाँदी की वस्तुएँ हवा के सम्पर्क में आने पर कुछ समय बाद काली हो जाती हैं ।
2. ऐसा सिल्वर सल्फाइड की कोटिंग के कारण होता है ।

नीचे दिए गए कूट से सही उत्तर चुनिए :

कूट :

- | | |
|------------------|-------------------|
| (a) केवल 2 | (b) न तो 1 न ही 2 |
| (c) 1 और 2 दोनों | (d) केवल 1 |



17. Match List - I with List - II and select the correct answer using the code given below the lists :

List - I (Mission)	List - II (Date of Launch)
A. Chandrayaan - 3	1. 02 September 2023
B. Aditya L1	2. 17 February 2024
C. INSAT - 3DS	3. 14 July 2023
D. RLV-LEX-01	4. 02 April 2023

Code :

	A	B	C	D
(a)	1	3	4	2
(b)	3	1	2	4
(c)	3	1	4	2
(d)	1	3	2	4

18. Match List - I with List - II and choose the correct answer using the code given below the lists.



List - I (State)	List - II (Number of seats in Rajya Sabha)
A. Maharashtra	1. 16
B. Karnataka	2. 18
C. Bihar	3. 19
D. Tamil Nadu	4. 12

Code :

	A	B	C	D
(a)	2	1	3	4
(b)	2	4	3	1
(c)	1	2	4	3
(d)	3	4	1	2

19. Given below are two statements, one is labelled as Assertion (A) and the other as Reason (R).

Assertion (A) : Poverty line differs across time and countries.

Reason (R) : The basic needs of people vary across regions and overtime.

Select the correct answer from the code given below :

Code :

- (a) Both (A) and (R) are true, but (R) is not the correct explanation of (A)
 (b) (A) is false, but (R) is true
 (c) (A) is true, but (R) is false
 (d) Both (A) and (R) are true and (R) is the correct explanation of (A)

17. सूची - I को सूची - II से सुमेलित कीजिए तथा सूचियों के नीचे दिए गए कूट का प्रयोग कर सही उत्तर चुनिए :



सूची - I (मिशन)	सूची - II (प्रक्षेपण तिथि)
A. चन्द्रयान - 3	1. 02 सितम्बर 2023
B. आदित्य L1	2. 17 फरवरी 2024
C. INSAT - 3DS	3. 14 जुलाई 2023
D. RLV-LEX-01	4. 02 अप्रैल 2023

कूट :

	A	B	C	D
(a)	1	3	4	2
(b)	3	1	2	4
(c)	3	1	4	2
(d)	1	3	2	4

18. सूची - I को सूची - II से सुमेलित कीजिए और सूचियों के नीचे दिए गए कूट से सही उत्तर चुनिए ।

सूची - I (राज्य)	सूची - II (राज्य सभा में सीटों की संख्या)
---------------------	--

A. महाराष्ट्र	1. 16
B. कर्नाटक	2. 18
C. बिहार	3. 19
D. तमिलनाडु	4. 12

कूट :

	A	B	C	D
(a)	2	1	3	4
(b)	2	4	3	1
(c)	1	2	4	3
(d)	3	4	1	2

19. नीचे दो कथन दिए गए हैं, जिनमें से एक को अभिकथन (A) तथा दूसरे को कारण (R) कहा गया है ।

अभिकथन (A) : निर्धनता रेखा समय और देशों के अनुरूप भिन्न होती है ।

कारण (R) : लोगों की मूलभूत आवश्यकताएँ क्षेत्रों और समय के अनुसार भिन्न होती है ।

नीचे दिए गए कूट से सही उत्तर चुनिए :

कूट :

- (a) (A) और (R) दोनों सही हैं, किन्तु (R), (A) की सही व्याख्या नहीं करता है
 (b) (A) गलत है, किन्तु (R) सही है
 (c) (A) सही है, किन्तु (R) गलत है
 (d) (A) और (R) दोनों सही हैं और (R), (A) की सही व्याख्या करता है

20. With reference to Sahitya Akademi Yuva Puraskar announced in June 2025, which of the following statements is/are correct ?

1. Yuva Puraskar was announced in 23 Indian languages.
2. There is no Yuva Puraskar in Dogri this year.

Select the correct answer from the code given below :

Code :

- (a) Only 2 (b) Neither 1 nor 2
(c) Both 1 and 2 (d) Only 1

21. Given below are two statements, one is labelled as Assertion (A) and the other as Reason (R).

Assertion (A) : In the Himalayan mountains different types of vegetation are found.

Reason (R) : In Himalayas, there are variations in climate with change in altitude.

Select the correct answer from the code given below :

Code :

- (a) Both (A) and (R) are true, but (R) is not the correct explanation of (A)
(b) (A) is false, but (R) is true
(c) (A) is true, but (R) is false
(d) Both (A) and (R) are true and (R) is the correct explanation of (A)

22. With reference to 'Carrying Capacity of Environment', which of the following statements is/are correct ?

1. The rate of resource extraction should remain above the rate of resource generation.
2. Generation of waste should remain within the absorption capacity of environment.

Select the correct answer from the code given below :

Code :

- (a) Only 2 (b) Neither 1 nor 2
(c) Both 1 and 2 (d) Only 1

23. Which of the following pairs is/are NOT correctly matched ?

(Tribe)	(Habitat)
1. Bushman	- Kalahari Desert
2. Eskimo	- Northern Canada
3. Pygmy	- Congo Basin
4. Masai	- West Africa

Select the correct answer from the code given below :

Code :

- (a) Only 1, 2 and 3 (b) Only 4
(c) Only 3 and 4 (d) Only 1

20. जून 2025 में घोषित साहित्य अकादमी युवा पुरस्कारों के संदर्भ में, निम्नलिखित में से कौन-सा/से कथन सही है/हैं ?

1. युवा पुरस्कार 23 भारतीय भाषाओं में घोषित किये गये।
 2. इस वर्ष डोगरी में कोई युवा पुरस्कार नहीं है।
- नीचे दिए गए कूट से सही उत्तर चुनिए :

कूट :

- (a) केवल 2 (b) न तो 1 न ही 2
(c) 1 और 2 दोनों (d) केवल 1

21. नीचे दो कथन दिए गए हैं जिनमें एक को अभिकथन (A) तथा दूसरे को कारण (R) कहा गया है।

अभिकथन (A) : हिमालय पर्वत में विभिन्न प्रकार की वनस्पतियाँ पायी जाती है।

कारण (R) : हिमालय में ऊँचाई के साथ जलवायु में भिन्नताएँ है।

नीचे दिए गए कूट से सही उत्तर चुनिए :

कूट :

- (a) (A) और (R) दोनों सही हैं, किन्तु (R), (A) की सही व्याख्या नहीं करता है
(b) (A) गलत है, किन्तु (R) सही है
(c) (A) सही है, किन्तु (R) गलत है
(d) (A) और (R) दोनों सही हैं और (R), (A) की सही व्याख्या करता है

22. 'पर्यावरण की वहन क्षमता' के संदर्भ में निम्नलिखित में से कौन-सा/से कथन सही है/हैं ?

1. संसाधन निष्कर्षण की दर, संसाधन सृजन की दर से अधिक रहनी चाहिए।
2. अपशिष्ट का उत्पादन, पर्यावरण की अवशोषण क्षमता के भीतर रहना चाहिये।

नीचे दिए गए कूट से सही उत्तर चुनिए :

कूट :

- (a) केवल 2 (b) न तो 1 न ही 2
(c) 1 और 2 दोनों (d) केवल 1

23. निम्नलिखित में से कौन-सा/से युग्म सही सुमेलित नहीं है/हैं ?

(जनजाति) (आवास क्षेत्र)

1. बुशमैन - कालाहारी मरुस्थल
2. एस्किमो - उत्तरी कनाडा
3. पिग्मी - कांगो बेसिन
4. मसाई - पश्चिम अफ्रीका

नीचे दिए गए कूट से सही उत्तर चुनिए :

कूट :

- (a) केवल 1, 2 और 3 (b) केवल 4
(c) केवल 3 और 4 (d) केवल 1



24. Which of the following pairs of Part of Indian Constitution and its subject is/are NOT correctly matched ?

1. Part IV A - Fundamental Duties
2. Part VI - The States
3. Part XI - The Municipalities

Select the correct answer from the code given below :

Code :

- (a) 1 and 2 (b) Only 3
(c) 2 and 3 (d) Only 1

25. Consider the following revolts and arrange them in correct chronological order.

1. Pabna
2. Indigo
3. Kuka
4. Sanyasi

Select the correct answer from the code given below :

Code :

- (a) 4, 3, 2, 1 (b) 3, 4, 1, 2
(c) 3, 4, 2, 1 (d) 4, 2, 3, 1

26. Consider the following wars and arrange them in correct chronological order.

1. First Anglo-Mysore War
2. Second Anglo-French War
3. First Anglo-Sikh War
4. First Anglo-Afghan War

Select the correct answer from the code given below :

Code :

- (a) 2, 1, 4, 3 (b) 1, 2, 3, 4
(c) 1, 2, 4, 3 (d) 2, 1, 3, 4

27. The Gobi Desert is spread across which of the following countries ?

1. Mongolia
2. China
3. Russia
4. Kazakhstan

Select the correct answer from the code given below :

Code :

- (a) Only 1 and 2 (b) Only 1, 2 and 4
(c) Only 1, 2 and 3 (d) Only 1

24. भारतीय संविधान के भाग और उसके विषय का निम्नलिखित में से कौन-सा/से युग्म सही सुमेलित नहीं है/हैं ?

1. भाग IV A - मौलिक कर्तव्य
2. भाग VI - राज्य
3. भाग XI - नगरपालिकाएँ

नीचे दिए गए कूट से सही उत्तर चुनिए :

कूट :

- (a) 1 और 2 (b) केवल 3
(c) 2 और 3 (d) केवल 1

25. निम्नलिखित विद्रोहों पर विचार कीजिए तथा इन्हें सही कालक्रमानुसार क्रम में व्यवस्थित कीजिए ।

1. पबना
2. नील
3. कूका
4. संन्यासी

नीचे दिए गए कूट से सही उत्तर चुनिए :

कूट :

- (a) 4, 3, 2, 1 (b) 3, 4, 1, 2
(c) 3, 4, 2, 1 (d) 4, 2, 3, 1

26. निम्नलिखित युद्धों पर विचार कीजिए तथा इन्हें सही कालक्रमानुसार क्रम में व्यवस्थित कीजिए ।

1. प्रथम एंग्लो-मैसूर युद्ध
2. द्वितीय एंग्लो-फ्रांसीसी युद्ध
3. प्रथम एंग्लो-सिख युद्ध
4. प्रथम एंग्लो-अफगान युद्ध

नीचे दिए गए कूट से सही उत्तर चुनिए :

कूट :

- (a) 2, 1, 4, 3 (b) 1, 2, 3, 4
(c) 1, 2, 4, 3 (d) 2, 1, 3, 4

27. गोबी मरुस्थल निम्नलिखित में से कौन-से देशों में फैला है ?

1. मंगोलिया
2. चीन
3. रूस
4. कजाखस्तान

नीचे दिए गए कूट से सही उत्तर चुनिए :

कूट :

- (a) केवल 1 और 2 (b) केवल 1, 2 और 4
(c) केवल 1, 2 और 3 (d) केवल 1



28. Which of the following two are the major constituent of Bio-gas ?
1. Methane
 2. Butane
 3. Carbon dioxide
 4. Carbon monoxide

Select the correct answer from the code given below :

Code :

- (a) 1 and 3
- (b) 3 and 4
- (c) 2 and 3
- (d) 1 and 2

29. 'Adi Karmyogi Beta Version - A Responsive Governance Initiative' was launched by which of the following ministry in June 2025 ?

1. Ministry of AYUSH
2. Ministry of Women and Child Development
3. Ministry of Social Justice and Empowerment
4. Ministry of Tribal Affairs

Select the correct answer from the code given below :

Code :

- (a) Only 1 and 2
- (b) Only 4
- (c) Only 2 and 3
- (d) Only 1

30. Arrange the following conquests of Alauddin Khalji in correct chronological order and select the correct answer from the code given below.

1. Ranthambore
2. Jaisalmer
3. Warangal
4. Chittor

Code :

- (a) 1, 2, 3, 4
- (b) 2, 1, 4, 3
- (c) 2, 1, 3, 4
- (d) 1, 2, 4, 3

28. निम्नलिखित में से कौन दो, बायोगैस के प्रमुख घटक हैं ?

1. मिथेन
2. ब्यूटेन
3. कार्बन डाइऑक्साइड
4. कार्बन मोनोऑक्साइड



नीचे दिए गए कूट से सही उत्तर चुनिए :

कूट :

- (a) 1 और 3
- (b) 3 और 4
- (c) 2 और 3
- (d) 1 और 2

29. जून 2025 में 'आदि कर्मयोगी बीटा संस्करण - एक उत्तरदायी शासन पहल' का शुभारंभ निम्नलिखित में से किस मंत्रालय द्वारा किया गया ?

1. आयुष मंत्रालय
2. महिला एवं बाल विकास मंत्रालय
3. सामाजिक न्याय और अधिकारिता मंत्रालय
4. जनजातीय कार्य मंत्रालय

नीचे दिए गए कूट से सही उत्तर चुनिए :

कूट :

- (a) केवल 1 और 2
- (b) केवल 4
- (c) केवल 2 और 3
- (d) केवल 1

30. अलाउद्दीन खिलजी की निम्नलिखित विजयों को सही कालक्रमानुसार क्रम में व्यवस्थित कीजिए तथा नीचे दिए गए कूट से सही उत्तर को चुनिए ।

1. रणथम्बोर
2. जैसलमेर
3. वारंगल
4. चित्तौड़

कूट :

- (a) 1, 2, 3, 4
- (b) 2, 1, 4, 3
- (c) 2, 1, 3, 4
- (d) 1, 2, 4, 3



31. With reference to hydroelectricity in North India, which of the following statements is/are correct ?

1. There are huge possibilities of hydroelectricity in the Himalayan region.
2. Eastern Uttar Pradesh and Bihar cannot utilise this potential because the Himalayas situated to their North lies in boundary of Nepal.

Select the correct answer from the code given below :

Code :

- (a) Only 2 (b) Neither 1 nor 2
(c) Both 1 and 2 (d) Only 1

32. Which of the following districts is/are part of the Devipatan Division in Uttar Pradesh ?

1. Basti
2. Bahraich
3. Balrampur

Select the correct answer from the code given below :

Code :

- (a) Only 1 and 2 (b) Only 3
(c) Only 2 and 3 (d) Only 1

33. Consider the formation of the following States of India and arrange them in correct chronological order starting from the earliest to the last.

1. Punjab
2. Arunachal Pradesh
3. Nagaland
4. Sikkim

Select the correct answer from the code given below :

Code :

- (a) 3, 2, 4, 1 (b) 3, 4, 1, 2
(c) 3, 1, 4, 2 (d) 2, 3, 4, 1

34. With reference to 'Uttar Pradesh', which of the following statements is/are correct ?

1. Uttar Pradesh is the leading producer of potato in the country.
2. Government of India has approved for establishment of South Asia Regional Centre of International Potato Centre at Aligarh.



Select the correct answer from the code given below :

Code :

- (a) Only 2 (b) Neither 1 nor 2
(c) Both 1 and 2 (d) Only 1

31. उत्तर भारत में जल विद्युत के संदर्भ में, निम्नलिखित में से कौन-सा/से कथन सही है/हैं ?

1. हिमालय क्षेत्र में जल विद्युत की विशाल संभावनाएँ हैं।
2. पूर्वी उत्तर प्रदेश और बिहार इस क्षमता का उपयोग नहीं कर सकते क्योंकि इनके उत्तर में स्थित हिमालय नेपाल की सीमा में आता है।

नीचे दिए गए कूट से सही उत्तर चुनिए :

कूट :

- (a) केवल 2 (b) न तो 1 न ही 2
(c) 1 और 2 दोनों (d) केवल 1

32. निम्नलिखित में से कौन-सा/से जिले उत्तर प्रदेश में देवी पाटन मंडल का हिस्सा है/हैं ?



1. बस्ती
2. बहराइच
3. बलरामपुर

नीचे दिए गए कूट से सही उत्तर चुनिए :

कूट :

- (a) केवल 1 और 2 (b) केवल 3
(c) केवल 2 और 3 (d) केवल 1

33. भारत के निम्नलिखित राज्यों के गठन पर विचार कीजिए तथा इन्हें सबसे पहले से लेकर आखिरी तक के सही कालक्रमानुसार क्रम में व्यवस्थित कीजिए।

1. पंजाब
2. अरुणाचल प्रदेश
3. नागालैण्ड
4. सिक्किम

नीचे दिए गए कूट से सही उत्तर चुनिए :

कूट :

- (a) 3, 2, 4, 1 (b) 3, 4, 1, 2
(c) 3, 1, 4, 2 (d) 2, 3, 4, 1

34. 'उत्तर प्रदेश' के संदर्भ में निम्नलिखित में से कौन-सा/से कथन सही है/हैं ?

1. उत्तर प्रदेश, देश में आलू का अग्रणी उत्पादक है।
2. भारत सरकार ने अलीगढ़ में अंतर्राष्ट्रीय आलू केन्द्र के दक्षिण एशिया क्षेत्रीय केंद्र की स्थापना को मंजूरी दी है।

नीचे दिए गए कूट से सही उत्तर चुनिए :

कूट :

- (a) केवल 2 (b) न तो 1 न ही 2
(c) 1 और 2 दोनों (d) केवल 1

35. Arrange the following States of India in the ascending order on the basis of their area and select the correct answer from the code given below.

1. Haryana
2. Himachal Pradesh
3. Punjab
4. Uttarakhand

Code :

- (a) 1, 3, 2, 4
- (b) 3, 1, 4, 2
- (c) 3, 1, 2, 4
- (d) 1, 3, 4, 2

36. Given below are two statements, one is labelled as Assertion (A) and the other as Reason (R).

Assertion (A) : Generally an alloy of lead and tin is used as a material of the fuse wire.

Reason (R) : Alloy of lead and tin has a higher melting point than copper and aluminium.

Select the correct answer from the code given below :

Code :

- (a) Both (A) and (R) are true, but (R) is not the correct explanation of (A)
- (b) (A) is false, but (R) is true
- (c) (A) is true, but (R) is false
- (d) Both (A) and (R) are true and (R) is the correct explanation of (A)

37. Match List - I with List - II and select the correct answer from the code given below the lists.

List - I

(State)

- A. Tamil Nadu
- B. Rajasthan
- C. Nagaland
- D. Madhya Pradesh

List - II

(Highest Peak)

1. Dhupgarh
2. Doddabetta
3. Guru Shikhar
4. Saramati

Code :

- | | A | B | C | D |
|-----|---|---|---|---|
| (a) | 2 | 3 | 1 | 4 |
| (b) | 3 | 2 | 4 | 1 |
| (c) | 3 | 2 | 1 | 4 |
| (d) | 2 | 3 | 4 | 1 |

35. भारत के निम्नलिखित राज्यों को उनके क्षेत्रफल के आधार पर आरोही क्रम में व्यवस्थित कीजिए तथा नीचे दिए गए कूट से सही उत्तर चुनिए ।

1. हरियाणा
2. हिमाचल प्रदेश
3. पंजाब
4. उत्तराखण्ड

कूट :

- (a) 1, 3, 2, 4
- (b) 3, 1, 4, 2
- (c) 3, 1, 2, 4
- (d) 1, 3, 4, 2

36. नीचे दो कथन दिए गए हैं, जिनमें से एक को अभिकथन (A) तथा दूसरे को कारण (R) कहा गया है ।

अभिकथन (A) : सामान्यतः सीसा तथा टिन की मिश्र धातु का प्रयोग फ्यूज तार के पदार्थ के रूप में किया जाता है ।

कारण (R) : सीसा व टिन की मिश्र धातु का गलनांक ताँबे व एल्यूमिनियम के गलनांक से अधिक होता है ।

नीचे दिए गए कूट से सही उत्तर चुनिए :

कूट :

- (a) (A) और (R) दोनों सही हैं, किन्तु (R), (A) की सही व्याख्या नहीं करता है
- (b) (A) गलत है, किन्तु (R) सही है
- (c) (A) सही है, किन्तु (R) गलत है
- (d) (A) और (R) दोनों सही हैं और (R), (A) की सही व्याख्या करता है

37. सूची - I को सूची - II से सुमेलित कीजिए तथा सूचियों के नीचे दिए गए कूट से सही उत्तर चुनिए ।

सूची - I

(राज्य)

- A. तमिलनाडु
- B. राजस्थान
- C. नागालैंड
- D. मध्य प्रदेश

सूची - II

(सबसे ऊँची चोटी)

1. धूपगढ़
2. डोड्डाबेट्टा
3. गुरु शिखर
4. सारामति

कूट :

- | | A | B | C | D |
|-----|---|---|---|---|
| (a) | 2 | 3 | 1 | 4 |
| (b) | 3 | 2 | 4 | 1 |
| (c) | 3 | 2 | 1 | 4 |
| (d) | 2 | 3 | 4 | 1 |

38. Operation Brahma was launched by India in March 2025 to provide humanitarian aid to which of the following countries ?

1. Bangladesh
2. Myanmar
3. Sri Lanka
4. Malaysia

Select the correct answer from the code given below :

Code :

- (a) Only 2 (b) Only 2 and 4
(c) Only 1 and 3 (d) Only 1

39. With reference to Municipalities, which of the following statements is/are correct ?

1. The eligible age to be a member of municipality is 25 years.
2. One-third of the total number of seats to be filled by direct election in the municipalities is reserved for women.

Select the correct answer from the code given below :

Code :

- (a) Both 1 and 2 (b) Neither 1 nor 2
(c) Only 2 (d) Only 1

40. Match List - I with List - II and select the correct answer using the code given below the lists.

List - I

(Governor

General/Viceroy)

- A. Lord Dalhousie
- B. Lord Curzon
- C. Lord William Bentinck
- D. Lord Cornwallis

List - II

(Important contribution/work)

1. Permanent settlement of Bengal
2. Prohibition of Practice of Sati
3. Partition of Bengal
4. Doctrine of Lapse

Code :

- | | A | B | C | D |
|-----|---|---|---|---|
| (a) | 4 | 3 | 1 | 2 |
| (b) | 3 | 4 | 2 | 1 |
| (c) | 3 | 4 | 1 | 2 |
| (d) | 4 | 3 | 2 | 1 |

38. मार्च 2025 में भारत ने ऑपरेशन ब्रह्मा निम्नलिखित में से किस देश को मानवीय सहायता प्रदान करने के लिए शुरू किया था ?

1. बांग्लादेश
2. म्यांमार
3. श्रीलंका
4. मलेशिया



नीचे दिए गए कूट से सही उत्तर चुनिए :

कूट :

- (a) केवल 2 (b) केवल 2 और 4
(c) केवल 1 और 3 (d) केवल 1

39. नगरपालिका के संदर्भ में निम्नलिखित में से कौन-सा/से कथन सही है/हैं ?

1. नगरपालिका सदस्य बनने के लिए अर्हता आयु 25 वर्ष है ।
2. नगरपालिकाओं में सीधे चुनाव से आने वाले कुल सदस्य संख्या का एक-तिहाई स्थान महिलाओं के लिए आरक्षित है ।

नीचे दिए गए कूट से सही उत्तर चुनिए :

कूट :

- (a) 1 और 2 दोनों (b) न तो 1 न ही 2
(c) केवल 2 (d) केवल 1

40. सूची - I को सूची - II से सुमेलित कीजिए तथा सूचियों के नीचे दिए गए कूट का प्रयोग कर सही उत्तर चुनिए ।

सूची - I

(गवर्नर जनरल/
वायसराय)

- A. लार्ड डलहौजी
- B. लार्ड कर्जन
- C. लार्ड विलियम बेंटिंक
- D. लार्ड कार्नवालिस

सूची - II

(महत्वपूर्ण योगदान/कार्य)

1. बंगाल का स्थायी बन्दोबस्त
2. सती प्रथा का निषेध
3. बंगाल का विभाजन
4. व्यपगत का सिद्धांत

कूट :

- | | A | B | C | D |
|-----|---|---|---|---|
| (a) | 4 | 3 | 1 | 2 |
| (b) | 3 | 4 | 2 | 1 |
| (c) | 3 | 4 | 1 | 2 |
| (d) | 4 | 3 | 2 | 1 |



41. Consider the following events and arrange them in correct chronological order.

1. Cripps Mission
2. Cabinet Mission
3. Shimla Conference
4. Wavell Plan

Select the correct answer from the code given below :

- Code :**
- (a) 1, 4, 3, 2 (b) 4, 1, 2, 3
(c) 4, 1, 3, 2 (d) 1, 4, 2, 3

42. With reference to Public Accounts Committee, which of the following statements is/are correct ?

1. Public Accounts Committee submits its report to the Lok Sabha.
2. Public Accounts Committee consists of 15 members from Rajya Sabha.

Select the correct answer from the code given below :

- Code :**
- (a) Both 1 and 2 (b) Neither 1 nor 2
(c) Only 2 (d) Only 1

43. Which of the following gasses is/are lighter than air ?

1. Hydrogen chloride
2. Sulfur dioxide
3. Helium

Select the correct answer from the code given below :

- Code :**
- (a) 1 and 2 (b) Only 3
(c) 2 and 3 (d) Only 1

44. With reference to 'Atal Tunnel' which of the following statements is/are correct ?

1. This tunnel is the world's longest highway tunnel.
2. This tunnel is built in the Pir Panjal range of Himalayas.

Select the correct answer from the code given below :

- Code :**
- (a) Only 2
(b) Neither 1 nor 2
(c) Both 1 and 2
(d) Only 1

41. निम्नलिखित घटनाओं पर विचार कीजिए तथा इन्हें सही कालक्रमानुसार क्रम में व्यवस्थित कीजिए ।

1. क्रिप्स मिशन
2. कैबिनेट मिशन
3. शिमला सम्मेलन
4. वेवेल योजना

नीचे दिए गए कूट से सही उत्तर चुनिए :

- कूट :**
- (a) 1, 4, 3, 2 (b) 4, 1, 2, 3
(c) 4, 1, 3, 2 (d) 1, 4, 2, 3

42. लोक लेखा समिति के सन्दर्भ में निम्नलिखित में से कौन-सा/से कथन सही है/हैं ?

1. लोक लेखा समिति अपनी रिपोर्ट लोक सभा को सौंपती है ।
2. लोक लेखा समिति में राज्य सभा के 15 सदस्य होते हैं ।

नीचे दिए गए कूट से सही उत्तर चुनिए :

- कूट :**
- (a) 1 और 2 दोनों (b) न तो 1 न ही 2
(c) केवल 2 (d) केवल 1

43. निम्नलिखित में से कौन-सी गैस हवा से हल्की है/हैं ?

1. हाइड्रोजन क्लोराइड
2. सल्फर डाइऑक्साइड
3. हीलियम

नीचे दिए गए कूट से सही उत्तर चुनिए :

- कूट :**
- (a) 1 और 2 (b) केवल 3
(c) 2 और 3 (d) केवल 1

44. 'अटल सुरंग' के संदर्भ में निम्नलिखित में से कौन-सा/से कथन सही है/हैं ?

1. यह सुरंग विश्व की सबसे लम्बी राजमार्ग सुरंग है ।
2. यह सुरंग हिमालय की पीर पंजाल शृंखला में बनाई गई है ।

नीचे दिए गए कूट से सही उत्तर चुनिए :

- कूट :**
- (a) केवल 2
(b) न तो 1 न ही 2
(c) 1 और 2 दोनों
(d) केवल 1

45. With reference to 'ozone layer', which of the following statements is/are correct ?

1. Ozone layer shields the surface of the earth from the ultra-violet radiations from the sun.
2. Ozone depletion has been linked to the chlorofluorocarbons.

Select the correct answer from the code given below :

Code :

- (a) Only 2 (b) Neither 1 nor 2
(c) Both 1 and 2 (d) Only 1

46. Which of the following countries is/are NOT a member of the Gulf Cooperation Council ?

1. Bahrain
2. Iran
3. Iraq
4. Qatar

Select the correct answer from the code given below :

Code :

- (a) 2 and 3 (b) 3 and 4
(c) Only 3 (d) Only 1

47. Given below are two statements, one is labelled as Assertion (A) and the other as Reason (R).

Assertion (A) : Public Interest Litigation in India is essential for the rule of law.

Reason (R) : Public Interest Litigation provides effective access of Justice to socially and economically weaker sections.

Select the correct answer from the code given below :

Code :

- (a) Both (A) and (R) are true, but (R) is not the correct explanation of (A)
(b) (A) is false, but (R) is true
(c) (A) is true, but (R) is false
(d) Both (A) and (R) are true and (R) is the correct explanation of (A)

45. 'ओज़ोन परत' के संदर्भ में निम्नलिखित में से कौन-सा/से कथन सही है/हैं ?

1. ओज़ोन परत पृथ्वी की सतह को सूर्य से आने वाली पराबैंगनी विकिरण से बचाती है ।

2. ओज़ोन क्षरण को क्लोरोफ्लोरोकार्बन से जोड़ा गया है । नीचे दिए गए कूट से सही उत्तर चुनिए :

कूट :

- (a) केवल 2 (b) न तो 1 न ही 2
(c) 1 और 2 दोनों (d) केवल 1

46. निम्नलिखित में से कौन-सा/से देश खाड़ी सहयोग परिषद का हिस्सा नहीं है/हैं ?

1. बहरीन
2. ईरान
3. इराक
4. कतर

नीचे दिए गए कूट से सही उत्तर चुनिए :

कूट :

- (a) 2 और 3 (b) 3 और 4
(c) केवल 3 (d) केवल 1

47. नीचे दो कथन दिए गए हैं, जिनमें एक को अभिकथन (A) तथा दूसरे को कारण (R) कहा गया है ।

अभिकथन (A) : भारत में जनहित याचिका कानून के शासन के लिए आवश्यक है ।

कारण (R) : जनहित याचिका सामाजिक और आर्थिक रूप से कमजोर वर्गों को न्याय तक प्रभावकारी पहुँच प्रदान करता है ।

नीचे दिए गए कूट से सही उत्तर चुनिए :

कूट :

- (a) (A) और (R) दोनों सही हैं, किन्तु (R), (A) की सही व्याख्या नहीं करता है
(b) (A) गलत है, किन्तु (R) सही है
(c) (A) सही है, किन्तु (R) गलत है
(d) (A) और (R) दोनों सही हैं और (R), (A) की सही व्याख्या करता है



48. Which one of the following books is NOT written by Kalidas ?

1. Meghaduta
2. Raghuvamsam
3. Shringar Shatak

Select the correct answer from the code given below :

Code :

- (a) 1 and 2 (b) Only 3
(c) 2 and 3 (d) Only 1

49. Given below are two statements, one is labelled as Assertion (A) and the other as Reason (R).

Assertion (A) : Buland Darwaja was constructed at Fatehpur Sikri by the Mughal emperor Akbar.

Reason (R) : Akbar built this monument to commemorate the birth of his son Jahangir. Select the correct answer from the code given below :

- Code :**
- (a) Both (A) and (R) are true, but (R) is not the correct explanation of (A)
(b) (A) is false, but (R) is true
(c) (A) is true, but (R) is false
(d) Both (A) and (R) are true and (R) is the correct explanation of (A)

50. Match List - I with List - II and choose the correct answer using the code given below the lists.

List - I
(Port)

- A. Paradeep
B. Tuticorin
C. Kakinada
D. Alappuzha

List - II
(State)

1. Tamil Nadu
2. Kerala
3. Odisha
4. Andhra Pradesh

Code :

- | | A | B | C | D |
|-----|---|---|---|---|
| (a) | 1 | 3 | 2 | 4 |
| (b) | 3 | 1 | 4 | 2 |
| (c) | 3 | 1 | 2 | 4 |
| (d) | 1 | 3 | 4 | 2 |

48. निम्नलिखित में से कौन-सा ग्रन्थ कालीदास के द्वारा नहीं लिखा गया है ?

1. मेघदूत
2. रघुवंशम्
3. शृंगार शतक

नीचे दिए गए कूट से सही उत्तर चुनिए :

कूट :

- (a) 1 और 2 (b) केवल 3
(c) 2 और 3 (d) केवल 1

49. नीचे दो कथन दिए गए हैं, जिनमें एक को अभिकथन (A) तथा दूसरे को कारण (R) कहा गया है।

अभिकथन (A) : मुगल सम्राट अकबर ने फतेहपुर सीक्री में बुलन्द दरवाजा का निर्माण करवाया था।

कारण (R) : अकबर ने इस स्मारक का निर्माण अपने पुत्र जहाँगीर के जन्म की याद में कराया था।

नीचे दिए गए कूट से सही उत्तर चुनिए :

कूट :

- (a) (A) और (R) दोनों सही हैं, किन्तु (R), (A) की सही व्याख्या नहीं करता है
(b) (A) गलत है, किन्तु (R) सही है
(c) (A) सही है, किन्तु (R) गलत है
(d) (A) और (R) दोनों सही हैं और (R), (A) की सही व्याख्या करता है

50. सूची - I को सूची - II से सुमेलित कीजिए और सूचियों के नीचे दिए गए कूट का प्रयोग कर सही उत्तर चुनिए।

सूची - I
(पत्तन)

- A. पारादीप
B. तूतिकोरिन
C. काकीनाडा
D. अलप्पुझा

सूची - II
(राज्य)

1. तमिलनाडु
2. केरल
3. ओडिशा
4. आन्ध्र प्रदेश

कूट :

- | | A | B | C | D |
|-----|---|---|---|---|
| (a) | 1 | 3 | 2 | 4 |
| (b) | 3 | 1 | 4 | 2 |
| (c) | 3 | 1 | 2 | 4 |
| (d) | 1 | 3 | 4 | 2 |

51. Given below are two statements, one is labelled as Assertion (A) and the other as Reason (R).

Assertion (A) : Sustainable development should take place without damaging the environment and development in the present time should not compromise with the needs of the future generations.

Reason (R) : Agenda 21 was signed by world leaders in 1995.

Select the correct answer from the code given below :

Code :

- (a) Both (A) and (R) are true, but (R) is not the correct explanation of (A)
 (b) (A) is false, but (R) is true
 (c) (A) is true, but (R) is false
 (d) Both (A) and (R) are true and (R) is the correct explanation of (A)

52. Match List - I with List - II and select the correct answer using the code given below the lists.

List - I
(Pulitzer award categories)

- A. Fiction
 B. Music
 C. Biography
 D. Drama

List - II
(Awardee in 2025)

1. Jason Roberts
 2. Branden Jacobs Jenkins
 3. Susie Ibarra
 4. Percival Everett

Code :

- | | A | B | C | D |
|-----|---|---|---|---|
| (a) | 3 | 4 | 2 | 1 |
| (b) | 4 | 3 | 1 | 2 |
| (c) | 4 | 3 | 2 | 1 |
| (d) | 3 | 4 | 1 | 2 |

53. Which of the following enzymes is/are released in stomach for protein digestion ?

1. Chymotrypsin
 2. Trypsin
 3. Pepsin

Select the correct answer using the code given below :

Code :

- (a) Only 1 and 2 (b) Only 3
 (c) Only 2 and 3 (d) 1, 2 and 3

51. नीचे दो कथन दिए गए हैं, जिनमें से एक को अभिकथन (A) तथा दूसरे को कारण (R) कहा गया है।

अभिकथन (A) : सतत विकास पर्यावरण को नुकसान पहुँचाए बिना होना चाहिये और वर्तमान के विकास को भविष्य की पीढ़ियों की जरूरतों के साथ समझौता नहीं करना चाहिये।

कारण (R) : एजेंडा 21 पर विश्व नेताओं द्वारा 1995 में हस्ताक्षर किए गए थे।

नीचे दिए गए कूट से सही उत्तर चुनिए :

कूट :

- (a) (A) और (R) दोनों सही हैं, किन्तु (R), (A) की सही व्याख्या नहीं करता है
 (b) (A) गलत है, किन्तु (R) सही है
 (c) (A) सही है, किन्तु (R) गलत है
 (d) (A) और (R) दोनों सही हैं और (R), (A) की सही व्याख्या करता है

52. सूची - I को सूची - II से सुमेलित कीजिए तथा सूचियों के नीचे दिए गए कूट का प्रयोग कर सही उत्तर चुनिए।

सूची - I

(पुलित्जर पुरस्कार की श्रेणी)

- A. फिक्शन
 B. संगीत
 C. जीवनी
 D. ड्रामा/नाटक

सूची - II

(2025 में विजेता)

1. जेसन रॉबर्ट्स
 2. ब्रैंडेन जैकब्स-जेनकिंस
 3. सूसी इबारा
 4. पर्सीवल एवरेट

कूट :

- | | A | B | C | D |
|-----|---|---|---|---|
| (a) | 3 | 4 | 2 | 1 |
| (b) | 4 | 3 | 1 | 2 |
| (c) | 4 | 3 | 2 | 1 |
| (d) | 3 | 4 | 1 | 2 |

53. प्रोटीन के पाचन के लिए आमाशय में निम्नलिखित में से कौन-सा/से एंजाइम निकलता है ?

1. काइमोट्रिप्सिन
 2. ट्रिप्सिन
 3. पेप्सिन

नीचे दिए गए कूट से सही उत्तर चुनिए :

कूट :

- (a) केवल 1 और 2 (b) केवल 3
 (c) केवल 2 और 3 (d) 1, 2 और 3



54. Given below are two statements, one is labelled as Assertion (A) and the other as Reason (R).

Assertion (A) : India has a Parliamentary system of Government.

Reason (R) : In India, the executive is responsible to the legislature.



Select the correct answer from the code given below :

Code :

- (a) Both (A) and (R) are true, but (R) is not the correct explanation of (A)
 (b) (A) is false, but (R) is true
 (c) (A) is true, but (R) is false
 (d) Both (A) and (R) are true and (R) is the correct explanation of (A)
55. Which of the following pairs is/are NOT correctly matched ?

(Pass)	(State/Union Territory)
1. Lipulekh	- Ladakh
2. Nathu La	- Sikkim
3. Bomdila	- Arunachal Pradesh
4. Shipki La	- Himachal Pradesh

Select the correct answer from the code given below :

- Code :**
 (a) Only 1 and 2 (b) Only 2, 3 and 4
 (c) Only 1, 2 and 3 (d) Only 1

56. Which among the following words were inserted in the Preamble of the Indian Constitution by the 42nd Constitution Amendment ?

1. Socialist
2. Secular
3. Sovereign
4. Republic

Select the correct answer from the code given below :

- Code :**
 (a) 1 and 3 (b) 3 and 4
 (c) 2 and 3 (d) 1 and 2

54. नीचे दो कथन दिए गए हैं, जिनमें एक को अभिकथन (A) तथा दूसरे को कारण (R) कहा गया है।

अभिकथन (A) : भारत में संसदीय शासन प्रणाली है।

कारण (R) : भारत में कार्यपालिका व्यवस्थापिका के प्रति उत्तरदायी होती है।

नीचे दिए गए कूट से सही उत्तर चुनिए :

कूट :

- (a) (A) और (R) दोनों सही हैं, किन्तु (R), (A) की सही व्याख्या नहीं करता है
 (b) (A) गलत है, किन्तु (R) सही है
 (c) (A) सही है, किन्तु (R) गलत है
 (d) (A) और (R) दोनों सही हैं और (R), (A) की सही व्याख्या करता है

55. निम्नलिखित में से कौन-सा/से युग्म सही सुमेलित नहीं है/हैं ?

(दर्रा)	(राज्य/केन्द्र शासित प्रदेश)
1. लिपुलेख	- लद्दाख
2. नाथू ला	- सिक्किम
3. बोमडिला	- अरुणाचल प्रदेश
4. शिपकी ला	- हिमाचल प्रदेश

नीचे दिए गए कूट से सही उत्तर चुनिए :

कूट :

- (a) केवल 1 और 2 (b) केवल 2, 3 और 4
 (c) केवल 1, 2 और 3 (d) केवल 1
56. 42 वें संविधान संशोधन द्वारा भारतीय संविधान की प्रस्तावना में निम्नलिखित में से कौन-से शब्द जोड़े गये थे ?

1. समाजवादी
2. धर्मनिरपेक्षता
3. सम्प्रभुता
4. गणतंत्र

नीचे दिए गए कूट से सही उत्तर चुनिए :

कूट :

- (a) 1 और 3 (b) 3 और 4
 (c) 2 और 3 (d) 1 और 2

57. Match List - I with List - II and select the correct answer using the code given below the lists.

List - I
(Emperor)

- A. Babur
B. Humayun
C. Jahangir
D. Shah Jahan

Code :

	A	B	C	D
(a)	4	3	2	1
(b)	3	4	1	2
(c)	3	4	2	1
(d)	4	3	1	2

List - II
(City where Tomb is located)

1. Agra
2. Lahore
3. Delhi
4. Kabul

58. Which of the following Ramsar wetland site is/are NOT situated in Uttar Pradesh ?

1. Sarsai Nawar Jheel
2. Samaspur Bird Sanctuary
3. Rudrasagar Lake
4. Sultanpur National Park

Select the correct answer from the code given below :

Code :

- (a) 1 and 3
(b) 3 and 4
(c) 2 and 3
(d) 1 and 2

59. Global Wage Report 2024-25 was released by which of the following organisation ?

1. International Labour Organisation
2. World Bank
3. International Bank for Reconstruction and Development

Select the correct answer from the code given below :

Code :

- (a) 1 and 2
(b) Only 3
(c) 2 and 3
(d) Only 1

60. The Global Financial Stability Report is released by which among the following ?

1. International Monetary Fund
2. World Economic Forum
3. World Bank

Select the correct answer from the code given below :

Code :

- (a) 1 and 2
(b) Only 3
(c) 2 and 3
(d) Only 1

57. सूची - I को सूची - II से सुमेलित कीजिए तथा सूचियों के नीचे दिए गए कूट का प्रयोग कर सही उत्तर चुनिए ।

सूची - I
(सम्राट)

- A. बाबर
B. हुमायूँ
C. जहाँगीर
D. शाहजहाँ

कूट :

	A	B	C	D
(a)	4	3	2	1
(b)	3	4	1	2
(c)	3	4	2	1
(d)	4	3	1	2

सूची - II

(शहर जहाँ मकबरा स्थित है)

1. आगरा
2. लाहौर
3. दिल्ली
4. काबुल

58. निम्नलिखित में से कौन-सा/से रामसर आर्द्रभूमि स्थल उत्तर प्रदेश में स्थित नहीं है/हैं ?

1. सरसई नावर झील
2. समसपुर पक्षी अभयारण्य
3. रुद्रसागर झील
4. सुल्तानपुर राष्ट्रीय उद्यान

नीचे दिए गए कूट से सही उत्तर चुनिए :

कूट :

- (a) 1 और 3
(b) 3 और 4
(c) 2 और 3
(d) 1 और 2

59. निम्नलिखित में से किस संगठन द्वारा वैश्विक वेतन रिपोर्ट 2024-25 जारी की गई है ?

1. अंतर्राष्ट्रीय श्रम संगठन
2. विश्व बैंक
3. अंतर्राष्ट्रीय पुनर्निर्माण एवं विकास बैंक

नीचे दिए गए कूट से सही उत्तर चुनिए :

कूट :

- (a) 1 और 2
(b) केवल 3
(c) 2 और 3
(d) केवल 1

60. वैश्विक वित्तीय स्थिरता रिपोर्ट निम्नलिखित में से किनके द्वारा जारी की जाती है ?

1. अंतर्राष्ट्रीय मुद्रा कोष
2. विश्व आर्थिक मंच
3. विश्व बैंक

नीचे दिए गए कूट से सही उत्तर चुनिए :

कूट :

- (a) 1 और 2
(b) केवल 3
(c) 2 और 3
(d) केवल 1

61. With reference to lichens, which of the following statements is/are correct ?
1. Lichens are very good indicators of pollution.
 2. Lichens grow well in polluted areas.
- Select the correct answer from the code given below :

Code :
 (a) Only 2 (b) Neither 1 nor 2
 (c) Both 1 and 2 (d) Only 1

62. Which of the following pairs is/are NOT correctly matched ?

(Day)	(Date)
1. International Ozone Day	- 16 September
2. World Environment Day	- 5 June
3. World Wildlife Day	- 22 March

Select the correct answer from the code given below :

Code:
 (a) 1 and 3 (b) Only 3
 (c) 2 and 3 (d) Only 1

63. With reference to 'Brazil' which of the following statements is/are correct ?
1. The equatorial rainforests of Brazil are called 'Selvas'.
 2. The dark black colour fertile land here is called 'Terra Roxa'.
- Select the correct answer from the code given below :

Code :
 (a) Only 2 (b) Neither 1 nor 2
 (c) Both 1 and 2 (d) Only 1

64. Match List - I with List - II and choose the correct answer using the code given below the lists.

List - I
(Finance Commission)

1. Eleventh
2. Twelfth
3. Thirteenth
4. Fourteenth

List - II
(Chairman)

1. Dr. C. Rangarajan
2. Dr. Y. V. Reddy
3. Prof. A. M. Khusro
4. Dr. Vijay L. Kelkar

Code :

A	B	C	D
(a) 3	1	4	2
(b) 2	3	4	1
(c) 3	2	1	4
(d) 1	3	2	4

61. लाइकेन के संदर्भ में निम्नलिखित में से कौन-सा/से कथन सही है/हैं ?

1. लाइकेन प्रदूषण के बहुत अच्छे संकेतक हैं।
 2. लाइकेन प्रदूषित क्षेत्रों में अच्छी तरह से उगते हैं।
- नीचे दिए गए कूट से सही उत्तर चुनिए :

कूट :
 (a) केवल 2 (b) न तो 1 न ही 2
 (c) 1 और 2 दोनों (d) केवल 1

62. निम्नलिखित युग्मों में कौन-सा/से सही सुमेलित नहीं है/हैं ?

(दिवस)	(तारीख)
1. अंतर्राष्ट्रीय ओजोन दिवस	- 16 सितम्बर
2. विश्व पर्यावरण दिवस	- 5 जून
3. विश्व वन्यजीव दिवस	- 22 मार्च

नीचे दिए गए कूट से सही उत्तर चुनिए :

कूट :
 (a) 1 और 3 (b) केवल 3
 (c) 2 और 3 (d) केवल 1

63. 'ब्राजील' के संदर्भ में निम्नलिखित में से कौन-सा/से कथन सही है/हैं ?

1. ब्राजील के भूमध्य रेखीय वर्षावनों को 'सेल्वा' कहते हैं।
2. यहाँ की गहरे काले रंग की उपजाऊ भूमि को 'टेरा रोक्सा' कहते हैं।

नीचे दिए गए कूट से सही उत्तर चुनिए :

कूट :
 (a) केवल 2 (b) न तो 1 न ही 2
 (c) 1 और 2 दोनों (d) केवल 1

64. सूची - I को सूची - II से सुमेलित कीजिए और सूचियों के नीचे दिए गए कूट का प्रयोग कर सही उत्तर चुनिए।

सूची - I
(वित्त आयोग)

1. ग्यारहवाँ
2. बारहवाँ
3. तेरहवाँ
4. चौदहवाँ

सूची - II
(अध्यक्ष)

1. डॉ. सी. रंगराजन
2. डॉ. वाई. वी. रेड्डी
3. प्रो. ए. एम. खुसरो
4. डॉ. विजय एल. केलकर

कूट :

A	B	C	D
(a) 3	1	4	2
(b) 2	3	4	1
(c) 3	2	1	4
(d) 1	3	2	4

65. Which among the following is/are NOT a social indicator of poverty ?

1. Illiteracy
2. Safe drinking water
3. Job opportunities
4. Size of the house

Select the correct answer from the code given below :

Code :

- (a) 1 and 2
- (b) Only 4
- (c) 3 and 4
- (d) Only 1

66. Match List - I with List - II and choose the correct answer using the code given below the lists.

List - I
(Lok Sabha)

- A. 11th Lok Sabha
- B. 12th Lok Sabha
- C. 14th Lok Sabha
- D. 17th Lok Sabha

Code :

- | | A | B | C | D |
|-----|---|---|---|---|
| (a) | 2 | 4 | 3 | 1 |
| (b) | 4 | 2 | 3 | 1 |
| (c) | 3 | 2 | 4 | 1 |
| (d) | 2 | 3 | 4 | 1 |

List - II
(Lok Sabha Speaker)

1. Om Birla
2. P. A. Sangma
3. Somnath Chatterjee
4. G.M.C. Balyogi

67. With reference to the Treaty of Aix-la-Chapelle, 1748, which of the following statements is/are correct ?

1. The first Carnatic war ended.
2. Madras was returned to the British.

Select the correct answer from the code given below :

Code :

- (a) Only 2
- (b) Neither 1 nor 2
- (c) Both 1 and 2
- (d) Only 1

65. निम्नलिखित में से कौन निर्धनता का सामाजिक संकेतक नहीं है ?

1. निरक्षरता
2. सुरक्षित पेयजल
3. रोजगार के अवसर
4. घर का आकार

नीचे दिए गए कूट से सही उत्तर चुनिए :

कूट :

- (a) 1 और 2
- (b) केवल 4
- (c) 3 और 4
- (d) केवल 1

66. सूची - I को सूची - II से सुमेलित कीजिए और सूचियों के नीचे दिए गए कूट का प्रयोग कर सही उत्तर चुनिए ।



सूची - I
(लोक सभा)

- A. 11 वीं लोक सभा
- B. 12 वीं लोक सभा
- C. 14 वीं लोक सभा
- D. 17 वीं लोक सभा

कूट :

- | | A | B | C | D |
|-----|---|---|---|---|
| (a) | 2 | 4 | 3 | 1 |
| (b) | 4 | 2 | 3 | 1 |
| (c) | 3 | 2 | 4 | 1 |
| (d) | 2 | 3 | 4 | 1 |

सूची - II
(लोक सभा अध्यक्ष)

1. ओम बिड़ला
2. पी.ए. संगमा
3. सोमनाथ चटर्जी
4. जी.एम.सी. बालयोगी

67. एक्स-ला-चैपल 1748 की सन्धि के संदर्भ में निम्नलिखित में से कौन-सा/से कथन सही है/हैं ?

1. प्रथम कर्नाटक युद्ध समाप्त हुआ ।
2. मद्रास अंग्रेजों को वापस कर दिया गया ।

नीचे दिए गए कूट से सही उत्तर चुनिए :

कूट :

- (a) केवल 2
- (b) न तो 1 न ही 2
- (c) 1 और 2 दोनों
- (d) केवल 1



68. Which of the following pairs is/are NOT correctly matched ?

(City)	(River)
1. Budapest	- Danube
2. Cologne	- Rhine
3. New Orleans	- Missouri
4. Hyderabad (India)	- Paleru

Select the correct answer from the code given below :

Code :

- (a) Only 1, 2 and 3 (b) Only 3 and 4
(c) Only 2, 3 and 4 (d) Only 1 and 2

69. With reference to 'Baking Soda', which of the following statements is/are correct ?



1. It is Sodium hydrogen carbonate.
2. It is used in fire extinguishers.

Select the correct answer from the code given below :

Code :

- (a) Only 2 (b) Neither 1 nor 2
(c) Both 1 and 2 (d) Only 1

70. Which of the following prepared the Annual Groundwater Quality Report 2024 ?

1. Central Pollution Control Board
2. Central Water Commission
3. Central Groundwater Board

Select the correct answer from the code given below :

Code :

- (a) 1 and 2 (b) Only 3
(c) 2 and 3 (d) Only 1

71. Who among the following were the members of the Fazal Ali Commission ?

1. K. T. Shah
2. K. M. Panikkar
3. P. Sitaramaiah
4. H. N. Kunjaru

Select the correct answer from the code given below :

Code :

- (a) 1 and 3 (b) 2 and 4
(c) 2 and 3 (d) 1 and 2

68. निम्नलिखित में से कौन-सा/से युग्म सही सुमेलित नहीं है/हैं ?

(नगर)	(नदी)
1. बुडापेस्ट	- डेन्यूब
2. कोलोन	- राइन
3. न्यू ऑरलियन्स	- मिसौरी
4. हैदराबाद (भारत)	- पलेरू

नीचे दिए गए कूट से सही उत्तर चुनिए :

कूट :

- (a) केवल 1, 2 और 3 (b) केवल 3 और 4
(c) केवल 2, 3 और 4 (d) केवल 1 और 2

69. 'बेकिंग सोडा' के संदर्भ में, निम्नलिखित में से कौन-सा/से कथन सही है/हैं ?

1. यह सोडियम हाइड्रोजन कार्बोनेट है।
2. यह अग्निशामक यंत्र में प्रयुक्त होता है।

नीचे दिए गए कूट से सही उत्तर चुनिए :

कूट :

- (a) केवल 2 (b) न तो 1 न ही 2
(c) 1 और 2 दोनों (d) केवल 1

70. निम्नलिखित में से किसके द्वारा वार्षिक भूजल गुणवत्ता रिपोर्ट 2024 तैयार की गई ?

1. केन्द्रीय प्रदूषण नियंत्रण बोर्ड
2. केन्द्रीय जल आयोग
3. केन्द्रीय भूजल बोर्ड



नीचे दिए गए कूट से सही उत्तर चुनिए :

कूट :

- (a) 1 और 2 (b) केवल 3
(c) 2 और 3 (d) केवल 1

71. निम्नलिखित में से कौन फजल अली आयोग के सदस्य थे ?

1. के. टी. शाह
2. के. एम. पणिकर
3. पी. सीतारमैया
4. एच. एन. कुंजरू

नीचे दिए गए कूट से सही उत्तर चुनिए :

कूट :

- (a) 1 और 3 (b) 2 और 4
(c) 2 और 3 (d) 1 और 2



72. Consider the following and arrange them in the correct chronological order.

1. Atal Mission for Rejuvenation and Urban Transformation
2. Jawaharlal Nehru National Urban Renewal Mission
3. Jal Jeevan Mission
4. National Urban Housing and Habitat Policy

Select the correct answer from the code given below :

Code :

- (a) 2, 4, 1, 3 (b) 4, 2, 1, 3
(c) 2, 4, 3, 1 (d) 4, 2, 3, 1

73. With reference to 'earthworms', which of the following statements is/are correct ?

1. Earthworms improves soil fertility and are known as farmer's friends.
2. Earthworm has two pair of hearts.

Select the correct answer from the code given below :

Code :

- (a) Only 2 (b) Neither 1 nor 2
(c) Both 1 and 2 (d) Only 1

74. Arrange the following saints in correct chronological order and select the correct answer from the code given below.

1. Nanak
2. Chaitanya Mahaprabhu
3. Namdev
4. Kabir

Code :

- (a) 3, 4, 2, 1 (b) 4, 3, 1, 2
(c) 3, 4, 1, 2 (d) 4, 3, 2, 1

75. Which of the following is/are NOT a cold ocean current ?

1. Agulhas current
2. Brazil current
3. Humboldt current
4. California current

Select the correct answer from the code given below :

Code :

- (a) 1 and 3 (b) 3 and 4
(c) 2 and 3 (d) 1 and 2

72. निम्नलिखित पर विचार करें तथा उन्हें सही कालक्रमानुसार क्रम में व्यवस्थित करें।

1. अटल कायाकल्प और शहरी परिवर्तन मिशन
2. जवाहरलाल नेहरू राष्ट्रीय शहरी नवीकरण मिशन
3. जल जीवन मिशन
4. राष्ट्रीय शहरी आवास एवं पर्यावास नीति

नीचे दिए गए कूट से सही उत्तर चुनिए :

कूट :

- (a) 2, 4, 1, 3 (b) 4, 2, 1, 3
(c) 2, 4, 3, 1 (d) 4, 2, 3, 1

73. 'केचुए' के संदर्भ में निम्नलिखित में से कौन-सा/से कथन सही है/हैं ?

1. केचुए मिट्टी की उर्वरता को बढ़ाते हैं और किसानों के मित्र के रूप में जाने जाते हैं।
2. केचुए में दो जोड़ी हृदय होते हैं।

नीचे दिए गए कूट से सही उत्तर चुनिए :

कूट :

- (a) केवल 2 (b) न तो 1 न ही 2
(c) 1 और 2 दोनों (d) केवल 1

74. निम्नलिखित संतों को सही कालक्रमानुसार क्रम में व्यवस्थित कीजिए तथा नीचे दिए गए कूट से सही उत्तर चुनिए।

1. नानक
2. चैतन्य महाप्रभु
3. नामदेव
4. कबीर

कूट :

- (a) 3, 4, 2, 1 (b) 4, 3, 1, 2
(c) 3, 4, 1, 2 (d) 4, 3, 2, 1

75. निम्नलिखित में से कौन-सी ठण्डी महासागरीय धारा नहीं है/हैं ?

1. अगुलहास धारा
2. ब्राजील धारा
3. हम्बोल्ट धारा
4. कैलिफोर्निया धारा

नीचे दिए गए कूट से सही उत्तर चुनिए :

कूट :

- (a) 1 और 3 (b) 3 और 4
(c) 2 और 3 (d) 1 और 2



76. With reference to 'Multi-Dimensional Poverty Index', which of the following statements is/are correct ?

1. It was developed and introduced in 2010.
2. It measures extreme poverty and includes those living on less than one dollar per day.

Select the correct answer using the code given below :

Code :

- (a) Only 2 (b) Neither 1 nor 2
(c) Both 1 and 2 (d) Only 1

77. Which of the following pairs is/are NOT correctly matched ?



(Acid)	(Acid found in)
1. Lactic acid	- Curd
2. Tartaric acid	- Grapes
3. Acetic acid	- Potato

Select the correct answer from the code given below :

Code :

- (a) 1 and 2 (b) Only 3
(c) 2 and 3 (d) Only 1

78. With reference to the 'Indian Ocean', which of the following statements is/are correct ?

1. It was called by the Ancient Greeks as Erythraean Sea.
2. It is spread on the either side of equator.

Select the correct answer from the code given below :

Code :

- (a) Only 2 (b) Neither 1 nor 2
(c) Both 1 and 2 (d) Only 1

79. Arrange the following events in correct chronological order and select the correct answer from the code given below.

1. Battle of Kannauj
2. Battle of Daurah
3. Battle of Samugarh
4. Battle of Chausa

Code :

- (a) 2, 4, 3, 1
(b) 4, 2, 1, 3
(c) 4, 2, 3, 1
(d) 2, 4, 1, 3

76. बहु-आयामी गरीबी सूचकांक के संदर्भ में निम्नलिखित में से कौन-सा/से कथन सही है/हैं ?

1. इसे 2010 में विकसित और प्रस्तुत किया गया।
2. यह अत्यधिक गरीबी को मापता है और प्रतिदिन एक डालर से कम पर जीवन यापन करने वालों को शामिल करता है।

नीचे दिए गए कूट से सही उत्तर चुनिए :

कूट :

- (a) केवल 2 (b) न तो 1 न ही 2
(c) 1 और 2 दोनों (d) केवल 1

77. निम्नलिखित में से कौन-सा/से युग्म सही सुमेलित नहीं है/हैं ?

(अम्ल)

(अम्ल पाया जाता है)

- | | | |
|------------------|---|-------|
| 1. लैक्टिक अम्ल | - | दही |
| 2. टार्टरिक अम्ल | - | अंगूर |
| 3. एसिटिक अम्ल | - | आलू |

नीचे दिए गए कूट से सही उत्तर चुनिए :

कूट :

- (a) 1 और 2 (b) केवल 3
(c) 2 और 3 (d) केवल 1

78. 'हिन्द महासागर' के संदर्भ में निम्नलिखित में से कौन-सा/से कथन सही है/हैं ?

1. इसे प्राचीन यूनानियों ने इरिथ्रियन सागर कहा था।
2. यह भूमध्य रेखा के दोनों तरफ फैला हुआ है।

नीचे दिए गए कूट से सही उत्तर चुनिए :

कूट :

- (a) केवल 2 (b) न तो 1 न ही 2
(c) 1 और 2 दोनों (d) केवल 1

79. निम्नलिखित घटनाओं को सही कालक्रमानुसार क्रम में व्यवस्थित कीजिए तथा नीचे दिए गए कूट से सही उत्तर को चुनिए।

1. कन्नौज का युद्ध
2. दौराह का युद्ध
3. समूगढ़ का युद्ध
4. चौसा का युद्ध

कूट :

- (a) 2, 4, 3, 1
(b) 4, 2, 1, 3
(c) 4, 2, 3, 1
(d) 2, 4, 1, 3

80. Which of the following statements with reference to 'blood' is/are correct ?

1. Blood is composed of plasma and different types of cells.
2. The presence of haemoglobin makes blood appear red.

Select the correct answer from the code given below :

Code :

- (a) Only 2
- (b) Neither 1 nor 2
- (c) Both 1 and 2
- (d) Only 1

81. Who among the following Indian novelists and journalists is/are part of the five member jury for the 2026 International Booker Prize ?

1. Natasha Brown
2. Kiran Desai
3. Nilanjana S. Roy
4. Rajni Chauhan

Select the correct answer from the code given below :

Code :

- (a) 2 and 3
- (b) 3 and 4
- (c) Only 3
- (d) Only 1

82. Match List - I with List - II and choose the correct answer using the code given below the lists.

**List - I
(Committees
of Constituent
Assembly)**

- A. Union Constitution Committee
- B. Rules of Procedure Committee
- C. Drafting Committee
- D. Fundamental Rights Sub-committee

**List - II
(Chairman of
Committees)**

1. Dr. Rajendra Prasad
2. J. B. Kripalani
3. Dr. B. R. Ambedkar
4. Jawaharlal Nehru

Code :

- | | A | B | C | D |
|-----|---|---|---|---|
| (a) | 2 | 1 | 3 | 4 |
| (b) | 1 | 4 | 3 | 2 |
| (c) | 4 | 1 | 3 | 2 |
| (d) | 1 | 2 | 3 | 4 |

80. 'रक्त' के संदर्भ में, निम्नलिखित में से कौन-सा/से कथन सही है/हैं ?

1. रक्त प्लाज्मा और विभिन्न प्रकार की कोशिकाओं से बना होता है ।
2. हीमोग्लोबिन की उपस्थिति रक्त को लालिमायुक्त बनाती है ।

नीचे दिए गए कूट से सही उत्तर चुनिए :

कूट :

- (a) केवल 2
- (b) न तो 1 न ही 2
- (c) 1 और 2 दोनों
- (d) केवल 1

81. निम्नलिखित में से कौन भारतीय उपन्यासकार और पत्रकार 2026 के अंतर्राष्ट्रीय बुकर पुरस्कार की पाँच सदस्यीय जूरी का हिस्सा है/हैं ?

1. नताशा ब्राउन
2. किरण देसाई
3. नीलांजना एस. रॉय
4. रजनी चौहान

नीचे दिए गए कूट से सही उत्तर चुनिए :

कूट :

- (a) 2 और 3
- (b) 3 और 4
- (c) केवल 3
- (d) केवल 1

82. सूची - I को सूची - II से सुमेलित कीजिए और सूचियों के नीचे दिए गए कूट का प्रयोग कर सही उत्तर चुनिए ।

सूची - I

(संविधान सभा की
समितियाँ)

- A. संघीय संविधान समिति
- B. प्रक्रिया नियम समिति
- C. प्रारूप समिति

D. मौलिक अधिकार
उप-समिति

सूची - II

(समितियों के अध्यक्ष)

1. डॉ. राजेन्द्र प्रसाद
2. जे. बी. कृपलानी
3. डॉ. बी. आर.
अम्बेडकर
4. जवाहरलाल नेहरू

कूट :

- | | A | B | C | D |
|-----|---|---|---|---|
| (a) | 2 | 1 | 3 | 4 |
| (b) | 1 | 4 | 3 | 2 |
| (c) | 4 | 1 | 3 | 2 |
| (d) | 1 | 2 | 3 | 4 |



83. Consider the following and arrange them in correct chronological order.

1. Jawahar Rojgar Yojana
2. Development of women and children in Rural Areas
3. Integrated Rural Development Programme
4. National Rural Employment Programme



Select the correct answer from the code given below :

Code :

- (a) 3, 4, 1, 2 (b) 4, 3, 2, 1
(c) 4, 3, 1, 2 (d) 3, 4, 2, 1

84. Which of the following districts of Uttar Pradesh shares its boundary with only one other district of Uttar Pradesh ?

1. Lalitpur
2. Saharanpur
3. Sonbhadra

Select the correct answer from the code given below :

Code :

- (a) Only 1 and 2 (b) All 1, 2 and 3
(c) Only 2 and 3 (d) Only 1

85. With reference to Panchayati Raj Institutions in India which of the following statements is/are correct ?

1. Tenure of Panchayati Raj Institutions shall be of 5 years.
2. In Panchayati Raj Institutions, out of the seats reserved, 1/4 of the seats shall be reserved for women belonging to Scheduled Caste and Scheduled Tribe.

Select the correct answer from the code given below :

Code :

- (a) Only 2
(b) Neither 1 nor 2
(c) Both 1 and 2
(d) Only 1

83. निम्नलिखित पर विचार कीजिए तथा उन्हें सही कालक्रमानुसार क्रम में व्यवस्थित कीजिए ।

1. जवाहर रोजगार योजना
2. ग्रामीण क्षेत्र में महिलाओं और बच्चों का विकास
3. एकीकृत ग्रामीण विकास कार्यक्रम
4. राष्ट्रीय ग्रामीण रोजगार कार्यक्रम

नीचे दिए गए कूट से सही उत्तर चुनिए :

कूट :

- (a) 3, 4, 1, 2 (b) 4, 3, 2, 1
(c) 4, 3, 1, 2 (d) 3, 4, 2, 1

84. उत्तर प्रदेश के निम्नलिखित जिलों में से कौन-सा/से जिले, उत्तर प्रदेश के केवल एक अन्य जिले के साथ अपनी सीमा साझा करते हैं/हैं ?



1. ललितपुर
2. सहारनपुर
3. सोनभद्र

नीचे दिए गए कूट से सही उत्तर चुनिए :

कूट :

- (a) केवल 1 और 2 (b) सभी 1, 2 और 3
(c) केवल 2 और 3 (d) केवल 1

85. भारत में पंचायती राज संस्थाओं के संदर्भ में निम्नलिखित में से कौन-सा/से कथन सही है/हैं ?

1. पंचायती राज संस्थाओं का कार्यकाल 5 वर्ष का होगा ।
2. पंचायती राज संस्थाओं में आरक्षित स्थानों में से 1/4 स्थान अनुसूचित जाति एवं अनुसूचित जनजाति की महिलाओं के लिए आरक्षित होंगे ।

नीचे दिए गए कूट से सही उत्तर चुनिए :

कूट :

- (a) केवल 2
(b) न तो 1 न ही 2
(c) 1 और 2 दोनों
(d) केवल 1



86. Match List - I with List - II and select the correct answer using the code given below the lists.

**List - I
(Writer)**

- A. Trivikram
Bhatta
B. Somdev
C. Jaidev
D. Kshemendra

**List - II
(Book)**

1. Gita Govinda
2. Brihatkathamajari
3. Nal Champu
4. Katha Sarit Sagar

Code :

	A	B	C	D
(a)	3	4	1	2
(b)	4	3	2	1
(c)	4	3	1	2
(d)	3	4	2	1

87. Which of the following archaeological sites related to Indus Valley civilization are situated in present day Uttar Pradesh ?

1. Mandi
2. Rakhigarhi
3. Hulas

Select the correct answer from the code given below :

Code :

- (a) 1 and 2 (b) Only 3
(c) 1 and 3 (d) Only 1

88. Consider the following sources of world water supply and arrange them in descending order.

1. Oceans
2. Rivers
3. Polar ice and Glaciers
4. Ground water

Select the correct answer from the code given below :

Code :

- (a) 1, 3, 4, 2 (b) 1, 2, 4, 3
(c) 1, 2, 3, 4 (d) 1, 4, 3, 2

89. Which of the following is/are a Financial Committee of Parliament in India ?

1. Public Accounts Committee
2. Estimate Committee
3. Committee on Public Undertakings

Select the correct answer from the code given below :

Code :

- (a) Only 1 and 2 (b) All 1, 2 and 3
(c) Only 2 and 3 (d) Only 1

86. सूची - I को सूची - II से सुमेलित कीजिए तथा सूचियों के नीचे दिए गए कूट से सही उत्तर चुनिए ।

**सूची - I
(लेखक)**

- A. त्रिविक्रम भट्ट
B. सोमदेव
C. जयदेव
D. क्षेमेंद्र

**सूची - II
(ग्रन्थ)**

1. गीत गोविन्द
2. बृहत्कथामंजरी
3. नल चम्पू
4. कथा सरित सागर

कूट :

	A	B	C	D
(a)	3	4	1	2
(b)	4	3	2	1
(c)	4	3	1	2
(d)	3	4	2	1

87. सिन्धु घाटी सभ्यता से सम्बन्धित निम्नलिखित पुरातात्विक स्थलों में से कौन आज के उत्तर प्रदेश में स्थित हैं ?

1. मंडी
2. राखीगढ़ी
3. हुलास

नीचे दिए गए कूट से सही उत्तर चुनिए :

कूट :

- (a) 1 और 2 (b) केवल 3
(c) 1 और 3 (d) केवल 1

88. विश्व जल आपूर्ति के निम्नलिखित स्रोतों पर विचार कीजिए तथा इन्हें अवरोही क्रम में व्यवस्थित कीजिए ।

1. महासागर
2. नदियाँ
3. ध्रुवीय बर्फ और हिमनद
4. भूगर्भ जल/भूजल

नीचे दिए गए कूट से सही उत्तर चुनिए :

कूट :

- (a) 1, 3, 4, 2 (b) 1, 2, 4, 3
(c) 1, 2, 3, 4 (d) 1, 4, 3, 2

89. निम्नलिखित में से कौन-सा भारत के संसद में वित्तीय समिति है/हैं ?

1. लोक लेखा समिति
2. प्राक्कलन समिति
3. सार्वजनिक उपक्रम समिति

नीचे दिए गए कूट से सही उत्तर चुनिए :

कूट :

- (a) केवल 1 और 2 (b) सभी 1, 2 और 3
(c) केवल 2 और 3 (d) केवल 1



90. Match List - I with List - II and select the correct answer from the code given below the lists.

List - I
(National Park/
Wildlife
Sanctuary)

- A. Dachingam
B. Keoladeo
C. Kanha
D. Periyar

List - II
(State/Union
Territory)

1. Madhya Pradesh
2. Rajasthan
3. Kerala
4. Jammu and
Kashmir

Code :

	A	B	C	D
(a)	4	2	3	1
(b)	2	4	1	3
(c)	2	4	3	1
(d)	4	2	1	3

91. Which of the following countries is/are NOT a member of the 'Bay of Bengal Initiative for Multi-Sectoral Technical and Economic Co-operation (BIMSTEC)' ?

1. Thailand
2. Nepal
3. Bhutan
4. Indonesia

Select the correct answer from the code given below :

Code :

- (a) 2 and 3
(b) Only 4
(c) 1 and 4
(d) Only 1

92. Which of the following pair is/are NOT correctly matched ?

(Dam)

(River)

1. Baglihar Dam - Chenab
2. Pandoh Dam - Ravi
3. Srisaillam Dam - Tungabhadra

Select the correct answer from the code given below :

Code :

- (a) 1 and 2
(b) Only 3
(c) 2 and 3
(d) Only 1

90. सूची - I को सूची - II से सुमेलित कीजिए तथा सूचियों के नीचे दिए गए कूट से सही उत्तर चुनिए ।

सूची - I

(राष्ट्रीय उद्यान/
वन्यजीव अभयारण्य)

सूची - II

(राज्य/केन्द्र शासित
प्रदेश)

- A. दाचीगाम
B. केवलादेव
C. कान्हा
D. पेरियार

1. मध्य प्रदेश
2. राजस्थान
3. केरल
4. जम्मू और कश्मीर

कूट :

	A	B	C	D
(a)	4	2	3	1
(b)	2	4	1	3
(c)	2	4	3	1
(d)	4	2	1	3

91. निम्नलिखित में से कौन-सा/से देश 'बंगाल की खाड़ी बहु-क्षेत्रीय तकनीकी और आर्थिक सहयोग पहल (बिम्स्टेक)' का सदस्य नहीं है ?

1. थाईलैंड
2. नेपाल
3. भूटान
4. इंडोनेशिया

नीचे दिए गए कूट से सही उत्तर चुनिए :

कूट :

- (a) 2 और 3
(b) केवल 4
(c) 1 और 4
(d) केवल 1

92. निम्नलिखित में से कौन-सा/से युग्म सही सुमेलित नहीं है/हैं ?

(बाँध)

(नदी)

1. बगलिहार बाँध - चिनाब
2. पंडोह बाँध - रावी
3. श्रीशैलम बाँध - तुंगभद्रा

नीचे दिए गए कूट से सही उत्तर चुनिए :

कूट :

- (a) 1 और 2
(b) केवल 3
(c) 2 और 3
(d) केवल 1

93. With reference to Mangrove Initiative for Shoreline Habitats and Tangible Income (MISHTI), which of the following statements is/are correct ?

1. It was initiated in 2019.
 2. It aims to restore Mangrove forests.
- Select the correct answer from the code given below :

Code :

- (a) Only 2 (b) Neither 1 nor 2
(c) Both 1 and 2 (d) Only 1

94. Given below are two statements, one is labelled as Assertion (A) and the other as Reason (R).

Assertion (A) : The Himalayas form source of several large perennial rivers.

Reason (R) : The higher ranges of Himalayas are snow covered throughout the year.

Select the correct answer from the code given below :

Code :

- (a) Both (A) and (R) are true, but (R) is not the correct explanation of (A)
(b) (A) is false, but (R) is true
(c) (A) is true, but (R) is false
(d) Both (A) and (R) are true and (R) is the correct explanation of (A)

95. Given below are two statements one is labelled as Assertion (A) and the other as Reason (R).

Assertion (A) : The territories of the Sultanate could be broadly divided into two parts – the Khalsa and the Jagirs.

Reason (R) : The Jagirs comprised of the land under the control of the State.

Select the correct answer from the code given below :

Code :

- (a) Both (A) and (R) are true, but (R) is not the correct explanation of (A)
(b) (A) is false, but (R) is true
(c) (A) is true, but (R) is false
(d) Both (A) and (R) are true and (R) is the correct explanation of (A)

93. तटरेखा आवास और मूर्त आय के लिए मैंग्रोव पहल (मिष्टी) के संदर्भ में निम्नलिखित में से कौन-सा/से कथन सही है/हैं ?



1. इसे 2019 में प्रारम्भ किया गया था।
 2. इसका उद्देश्य मैंग्रोव वनों को पुनर्स्थापित करना है।
- नीचे दिए गए कूट से सही उत्तर चुनिए :

कूट :

- (a) केवल 2 (b) न तो 1 न ही 2
(c) 1 और 2 दोनों (d) केवल 1

94. नीचे दो कथन दिए गए हैं, जिनमें से एक को अभिकथन (A) तथा दूसरे को कारण (R) कहा गया है।

अभिकथन (A) : हिमालय अनेक बड़ी सततवाहिनी नदियों का उद्गम स्थल है।

कारण (R) : हिमालय की ऊँची श्रेणियाँ सदा हिमाच्छादित रहती हैं।

नीचे दिए गए कूट से सही उत्तर चुनिए :

कूट :

- (a) (A) और (R) दोनों सही हैं, किन्तु (R), (A) की सही व्याख्या नहीं करता है
(b) (A) गलत है, किन्तु (R) सही है
(c) (A) सही है, किन्तु (R) गलत है
(d) (A) और (R) दोनों सही हैं और (R), (A) की सही व्याख्या करता है

95. नीचे दो कथन दिए गए हैं, जिनमें एक को अभिकथन (A) तथा दूसरे को कारण (R) कहा गया है।

अभिकथन (A) : सल्तनत के क्षेत्रों को मोटे तौर पर दो भागों में विभाजित किया जा सकता है – खालसा और जागीरें।

कारण (R) : जागीरों में राज्य के नियंत्रण में आने वाली भूमि शामिल थी।

नीचे दिए गए कूट से सही उत्तर चुनिए :

कूट :

- (a) (A) और (R) दोनों सही हैं, किन्तु (R), (A) की सही व्याख्या नहीं करता है
(b) (A) गलत है, किन्तु (R) सही है
(c) (A) सही है, किन्तु (R) गलत है
(d) (A) और (R) दोनों सही हैं और (R), (A) की सही व्याख्या करता है

96. Match List - I with List - II and select the correct answer using the code given below the lists.

List - I (Padmavibhushan Fields 2025)	List - II (Awardee 2025)
A. Trade and Industry	1. Shri Lakshminarayana Subramaniam
B. Literature and Education	2. Shri Osamu Suzuki
C. Medicine	3. Shri M. T. Vasudevan Nair
D. Art	4. Shri D. Nageshwar Reddy

Code :

	A	B	C	D
(a)	3	2	1	4
(b)	2	3	4	1
(c)	2	3	1	4
(d)	3	2	4	1

97. Pushkar Kumbh Mela 2025 was held in May 2025 in which of the following State(s) ?

1. Rajasthan
2. Uttar Pradesh
3. Uttarakhand

Select the correct answer from the code given below :

Code :

- | | |
|-------------|------------|
| (a) 1 and 2 | (b) Only 3 |
| (c) 2 and 3 | (d) Only 1 |

98. Which of the following statements is/are correct ?

1. Dolphins and Whales breathe through blowholes.
2. Earthworm breathe through their skin.

Select the correct answer from the code given below :

Code :

- | | |
|------------------|---------------------|
| (a) Only 2 | (b) Neither 1 nor 2 |
| (c) Both 1 and 2 | (d) Only 1 |

96. सूची - I को सूची - II से सुमेलित कीजिए तथा सूचियों के नीचे दिए गए कूट से सही उत्तर चुनिए ।

सूची - I (पद्मविभूषण क्षेत्र 2025)	सूची - II (विजेता 2025)
A. व्यापार और उद्योग	1. श्री लक्ष्मीनारायण सुब्रमण्यम
B. साहित्य और शिक्षा	2. श्री ओसामु सुजुकी
C. दवा	3. श्री एम. टी. वासुदेवन नायर
D. कला	4. श्री डी. नागेश्वर रेड्डी

कूट :

	A	B	C	D
(a)	3	2	1	4
(b)	2	3	4	1
(c)	2	3	1	4
(d)	3	2	4	1

97. मई 2025 में पुष्कर कुंभ मेला 2025 का आयोजन निम्नलिखित में से किन राज्य/राज्यों में किया गया था ?

1. राजस्थान
2. उत्तर प्रदेश
3. उत्तराखण्ड

नीचे दिए गए कूट से सही उत्तर चुनिए :

कूट :

- | | |
|------------|------------|
| (a) 1 और 2 | (b) केवल 3 |
| (c) 2 और 3 | (d) केवल 1 |

98. निम्नलिखित कथनों में से कौन-सा/से कथन सही है/हैं ?

1. डॉल्फिन और व्हेल ब्लोहोल्स के माध्यम से साँस लेती हैं ।
2. केचुए अपनी त्वचा के माध्यम से साँस लेते हैं ।

नीचे दिए गए कूट से सही उत्तर चुनिए :

कूट :

- | | |
|------------------|-------------------|
| (a) केवल 2 | (b) न तो 1 न ही 2 |
| (c) 1 और 2 दोनों | (d) केवल 1 |



99. Given below are two statements, one is labelled as Assertion (A) and the other as Reason (R).

Assertion (A) : The concept of National Integration involves political, economic, social, cultural and psychological dimensions and inter-relation between them.

Reason (R) : The National Integration Council was constituted in 1961 on the principle of 'Unity in Diversity'.

Select the correct answer from the code given below :

Code :

- (a) Both (A) and (R) are true, but (R) is not the correct explanation of (A)
 (b) (A) is false, but (R) is true
 (c) (A) is true, but (R) is false
 (d) Both (A) and (R) are true and (R) is the correct explanation of (A)

100. Consider the following elements found in a typical 70 kg man and arrange them in correct increasing order.

1. Sodium
2. Potassium
3. Copper
4. Iron

Select the correct answer from the code given below :

Code :

- (a) 4, 3, 1, 2 (b) 3, 4, 2, 1
 (c) 3, 4, 1, 2 (d) 4, 3, 2, 1

101. Consider the following Committees relating to poverty and arrange their formation in correct chronological order.



1. Lakdawala Committee
2. Rangarajan Committee
3. Tendulkar Committee
4. Dandekar and Rath Committee

Select the correct answer from the code given below :

Code :

- (a) 4, 1, 2, 3 (b) 1, 4, 3, 2
 (c) 1, 4, 2, 3 (d) 4, 1, 3, 2

99. नीचे दो कथन दिए गए हैं, जिनमें एक को अभिकथन (A) तथा दूसरे को कारण (R) कहा गया है।



अभिकथन (A) : राष्ट्रीय एकता की अवधारणा में राजनीतिक, आर्थिक, सामाजिक, सांस्कृतिक एवं मनोवैज्ञानिक आयाम तथा उनके बीच आंतरिक सम्बन्ध सम्मिलित हैं।

कारण (R) : राष्ट्रीय एकता परिषद का गठन 1961 में 'अनेकता में एकता' के सिद्धान्त के आधार पर किया गया। नीचे दिए गए कूट से सही उत्तर चुनिए :

कूट :

- (a) (A) और (R) दोनों सही हैं, किन्तु (R), (A) की सही व्याख्या नहीं करता है
 (b) (A) गलत है, किन्तु (R) सही है
 (c) (A) सही है, किन्तु (R) गलत है
 (d) (A) और (R) दोनों सही हैं और (R), (A) की सही व्याख्या करता है

100. एक सामान्य 70 कि.ग्रा. व्यक्ति में पाये जाने वाले निम्नलिखित तत्वों पर विचार कीजिए तथा इन्हें सही बढ़ते क्रम में व्यवस्थित कीजिए।



1. सोडियम
2. पोटैशियम
3. ताँबा
4. लोहा

नीचे दिए गए कूट से सही उत्तर चुनिए :

कूट :

- (a) 4, 3, 1, 2 (b) 3, 4, 2, 1
 (c) 3, 4, 1, 2 (d) 4, 3, 2, 1

101. गरीबी से संबंधित निम्नलिखित समितियों पर विचार कीजिए तथा इनके गठन को सही कालक्रमानुसार क्रम में व्यवस्थित कीजिए।

1. लकड़ावाला समिति
2. रंगराजन समिति
3. तेंदुलकर समिति
4. दांडेकर और रथ समिति

नीचे दिए गए कूट से सही उत्तर चुनिए :

कूट :

- (a) 4, 1, 2, 3 (b) 1, 4, 3, 2
 (c) 1, 4, 2, 3 (d) 4, 1, 3, 2

102. Which of the following languages is/are NOT included in the Eighth Schedule of Indian Constitution ?

1. Nepali
2. Dogri
3. Bodo
4. Bhojpuri

Select the correct answer from the code given below :

Code :

- (a) 1 and 2 (b) Only 4
(c) 3 and 4 (d) Only 1

103. With reference to 'acid and bases', which of the following statements is/are correct ?

1. Acidic solutions have pH more than 7.
2. Basic solutions have pH less than 7.

Select the correct answer from the code given below :

Code :

- (a) Only 2 (b) Neither 1 nor 2
(c) Both 1 and 2 (d) Only 1

104. Consider the tenure of the following Presidents of India and arrange them in correct chronological order starting from earliest to the last.

1. Neelam Sanjiva Reddy
2. K.R. Narayanan
3. A.P.J. Abdul Kalam
4. R. Venkataraman

Select the correct answer from the code given below :

Code :

- (a) 1, 4, 2, 3 (b) 4, 1, 3, 2
(c) 4, 1, 2, 3 (d) 1, 4, 3, 2

105. Four Buddhist Councils were held at the following places. Arrange them in correct chronological order and select the correct answer from the code given below.

1. Vaishali
2. Rajagriha
3. Kundalvana
4. Pataliputra

Code :

- (a) 1, 2, 4, 3 (b) 2, 1, 3, 4
(c) 2, 1, 4, 3 (d) 1, 2, 3, 4

102. निम्नलिखित भाषाओं में से कौन-सी भारतीय संविधान की आठवीं अनुसूची में शामिल नहीं है/हैं ?

1. नेपाली
2. डोगरी
3. बोडो
4. भोजपुरी

नीचे दिए गए कूट से सही उत्तर का चयन कीजिए :

कूट :

- (a) 1 और 2 (b) केवल 4
(c) 3 और 4 (d) केवल 1

103. 'अम्ल और क्षार' के संदर्भ में, निम्नलिखित में से कौन-सा/से कथन सही है/हैं ?

1. अम्लीय विलयन 7 से अधिक pH का होता है ।
2. क्षारीय विलयन का pH 7 से कम होता है ।

नीचे दिए गए कूट से सही उत्तर चुनिए :

कूट :

- (a) केवल 2 (b) न तो 1 न ही 2
(c) 1 और 2 दोनों (d) केवल 1

104. भारत के निम्नलिखित राष्ट्रपतियों के कार्यकाल पर विचार कीजिए तथा इन्हें सबसे पहले से आखिरी तक के सही कालक्रमानुसार क्रम में व्यवस्थित कीजिए ।

1. नीलम संजीवा रेड्डी
2. के. आर. नारायणन
3. ए. पी. जे. अब्दुल कलाम
4. आर. वेंकटरमन

नीचे दिए गए कूट से सही उत्तर चुनिए :

कूट :

- (a) 1, 4, 2, 3 (b) 4, 1, 3, 2
(c) 4, 1, 2, 3 (d) 1, 4, 3, 2

105. चार बौद्ध संगीतियाँ निम्नलिखित स्थानों पर सम्पन्न हुई थी । इन्हें सही कालक्रमानुसार क्रम में व्यवस्थित कीजिए तथा नीचे दिए गए कूट से सही उत्तर चुनिए ।

1. वैशाली
2. राजगृह
3. कुण्डलवन
4. पाटलिपुत्र

कूट :

- (a) 1, 2, 4, 3 (b) 2, 1, 3, 4
(c) 2, 1, 4, 3 (d) 1, 2, 3, 4

106. Match List - I with List - II and choose the correct answer using the code given below the lists.

List - I
(Nuclear Power Plant)

- A. Kudankulam
B. Kakrapar
C. Kaiga
D. Rawatbhata

List - II
(State)

1. Karnataka
2. Tamil Nadu
3. Rajasthan
4. Gujarat

Code :

	A	B	C	D
(a)	4	2	1	3
(b)	2	4	3	1
(c)	2	4	1	3
(d)	4	2	3	1

107. Who among the following had won the International Booker Prize in 2025 ?

1. Banu Mushtaq
2. Deepa Bhasthi
3. Sanjay Chauhan

Select the correct answer from the code given below :

Code :

- (a) 1 and 2
(b) Only 3
(c) 2 and 3
(d) Only 1

108. Match List - I with List - II and choose the correct answer using the code given below the lists.

List - I
(Iron-ore Mines)

- A. Gurumahisani
B. Bailadila
C. Noamundi
D. Kudremukh

List - II
(State)

1. Jharkhand
2. Karnataka
3. Odisha
4. Chhattisgarh

Code :

	A	B	C	D
(a)	3	4	2	1
(b)	4	3	1	2
(c)	4	3	2	1
(d)	3	4	1	2

106. सूची - I को सूची - II से सुमेलित कीजिए और सूचियों के नीचे दिए गए कूट का प्रयोग कर सही उत्तर चुनिए ।

सूची - I

(परमाणु शक्ति संयंत्र)

- A. कुड़ानकुलम
B. काकरापार
C. कैगा
D. रावतभाटा

सूची - II

(राज्य)

1. कर्नाटक
2. तमिलनाडु
3. राजस्थान
4. गुजरात

कूट :

	A	B	C	D
(a)	4	2	1	3
(b)	2	4	3	1
(c)	2	4	1	3
(d)	4	2	3	1

107. निम्नलिखित में से किसने 2025 में अंतर्राष्ट्रीय बुकर पुरस्कार जीता है ?

1. बानू मुश्ताक
2. दीपा भस्थी
3. संजय चौहान

नीचे दिए गए कूट से सही उत्तर चुनिए :

कूट :

- (a) 1 और 2
(b) केवल 3
(c) 2 और 3
(d) केवल 1

108. सूची - I को सूची - II से सुमेलित कीजिए और सूचियों के नीचे दिए गए कूट का प्रयोग कर सही उत्तर चुनिए ।

सूची - I

(लौह-अयस्क खदान)

- A. गुरुमहिसानी
B. बैलाडिला
C. नोआमुण्डी
D. कुद्रेमुख

सूची - II

(राज्य)

1. झारखण्ड
2. कर्नाटक
3. ओडिशा
4. छत्तीसगढ़

कूट :

	A	B	C	D
(a)	3	4	2	1
(b)	4	3	1	2
(c)	4	3	2	1
(d)	3	4	1	2



109. With reference to 'International Solar Alliance', which of the following statements is/are correct ?

1. It is the first treaty based Inter-governmental organisation headquartered in India with 38 member countries.
2. World Solar Bank and One Sun One World One Grid Initiative were initiated under it.

Select the correct answer using the code given below :

Code :

- (a) Only 2 (b) Neither 1 nor 2
(c) Both 1 and 2 (d) Only 1

110. Joint special forces exercise 'KHANJAR-XII' was held in March 2025 between India and which of the following Countries ?



1. Russia
2. Turkmenistan
3. Kyrgyzstan
4. Mongolia

Select the correct answer from the code given below :

Code :

- (a) 2 and 3 (b) 3 and 4
(c) Only 3 (d) Only 1

111. Which of the following Department prepares the National Indicator Framework Progress Report related to Sustainable Development Goals in Uttar Pradesh ?

1. Department of Finance
2. Department of Education
3. Department of Planning

Select the correct answer from the code given below :

Code :

- (a) 1 and 2 (b) Only 3
(c) 1 and 3 (d) Only 1

112. With reference to 'Isotopes', which of the following statements is/are correct ?

1. Atoms with identical atomic numbers but different atomic mass numbers are known as isotopes.
2. Protium, Deuterium and Tritium are isotopes of carbon.

Select the correct answer from the code given below :

Code :

- (a) Only 2 (b) Neither 1 nor 2
(c) Both 1 and 2 (d) Only 1

109. 'अंतर्राष्ट्रीय सौर गठबन्धन' के संदर्भ में निम्नलिखित में से कौन-सा/से कथन सही है/हैं ?

1. यह पहला संधि आधारित अंतर-सरकारी संगठन है जिसका मुख्यालय भारत में है और इसमें 38 सदस्य देश हैं।
2. विश्व सौर बैंक और वन सन वन वर्ल्ड वन ग्रिड की पहल इसके अन्तर्गत की गई है।

नीचे दिए गए कूट से सही उत्तर चुनिए :

कूट :

- (a) केवल 2 (b) न तो 1 न ही 2
(c) 1 और 2 दोनों (d) केवल 1

110. मार्च 2025 में संयुक्त विशेष बल अभ्यास 'खंजर -XII' भारत और निम्नलिखित में से किन देशों के बीच आयोजित किया गया था ?



1. रूस
2. तुर्कमेनिस्तान
3. किर्गिजस्तान
4. मंगोलिया

नीचे दिए गए कूट से सही उत्तर चुनिए :

कूट :

- (a) 2 और 3 (b) 3 और 4
(c) केवल 3 (d) केवल 1

111. निम्नलिखित में से कौन-सा/से विभाग उत्तर प्रदेश में सतत विकास लक्ष्यों से संबंधित राष्ट्रीय संकेतक ढाँचा प्रगति रिपोर्ट तैयार करता है ?

1. वित्त विभाग
2. शिक्षा विभाग
3. योजना विभाग

नीचे दिए गए कूट से सही उत्तर चुनिए :

कूट :

- (a) 1 और 2 (b) केवल 3
(c) 1 और 3 (d) केवल 1

112. समस्थानिक (आइसोटोप) के संदर्भ में, निम्नलिखित में से कौन-सा/से कथन सही है/हैं ?



1. समान परमाणु क्रमांक किन्तु अलग परमाणु द्रव्यमान वाले परमाणुओं को समस्थानिक कहते हैं।
2. प्रोटियम, ड्यूटेरियम और ट्रिटियम कार्बन के समस्थानिक हैं।

नीचे दिए गए कूट से सही उत्तर चुनिए :

कूट :

- (a) केवल 2 (b) न तो 1 न ही 2
(c) 1 और 2 दोनों (d) केवल 1



113. Match List - I with List - II and choose the correct answer using the code given below the lists.

**List - I
(Schedule)**

- A. 7th Schedule
B. 8th Schedule
C. 9th Schedule
D. 10th Schedule

**List - II
(Subject)**

1. Languages
2. Disqualification on ground of defection
3. Union, State and Concurrent lists
4. Validation of certain Acts/Regulations

Code :

	A	B	C	D
(a)	3	1	2	4
(b)	3	1	4	2
(c)	2	3	4	1
(d)	4	2	1	3

114. Which of the following sites were obtained by the British East India Company under the Treaty of Sugauli in 1816 ?

1. Kathmandu
2. Shimla
3. Ranikhet
4. Nainital

Select the correct answer from the code given below :

Code :

- (a) 1 and 2 (b) Only 3 and 4
(c) 2, 3 and 4 (d) Only 1

115. "Swavalambini", a women entrepreneurship programme for the North-East is launched by which of the following ministries ?

1. Ministry of Skill Development and Entrepreneurship
2. Ministry of Women and Child Development
3. Ministry of Micro, Small and Medium Enterprises

Select the correct answer from the code given below :

Code :

- (a) 1 and 2 (b) Only 3
(c) 2 and 3 (d) Only 1

113. सूची - I को सूची - II से सुमेलित कीजिए और सूचियों के नीचे दिए गए कूट का प्रयोग कर सही उत्तर चुनिए ।

**सूची - I
(अनुसूची)**

- A. 7 वीं अनुसूची
B. 8 वीं अनुसूची
C. 9 वीं अनुसूची
D. 10 वीं अनुसूची

**सूची - II
(विषय)**

1. भाषा
2. दलबदल के आधार पर अयोग्यता
3. संघ, राज्य और समवर्ती सूचियाँ
4. कुछ अधिनियमों और विनियमों का सत्यापन



कूट :

	A	B	C	D
(a)	3	1	2	4
(b)	3	1	4	2
(c)	2	3	4	1
(d)	4	2	1	3

114. निम्नलिखित में से कौन-सी जगहें 1816 की सुगौली संधि के तहत ब्रिटिश ईस्ट इंडिया कंपनी द्वारा प्राप्त की गई थीं ?

1. काठमांडू
2. शिमला
3. रानीखेत
4. नैनीताल

नीचे दिए गए कूट से सही उत्तर चुनिए :

कूट :

- (a) 1 और 2 (b) केवल 3 और 4
(c) 2, 3 और 4 (d) केवल 1

115. पूर्वोत्तर के लिए महिला उद्यमिता कार्यक्रम "स्वावलंबिनी", निम्नलिखित में से किस मंत्रालय द्वारा शुरू किया गया है ?

1. कौशल विकास और उद्यमिता मंत्रालय
2. महिला एवं बाल विकास मंत्रालय
3. सूक्ष्म, लघु और मध्यम उद्यम मंत्रालय

नीचे दिए गए कूट से सही उत्तर चुनिए :

कूट :

- (a) 1 और 2 (b) केवल 3
(c) 2 और 3 (d) केवल 1



116. Which of the following rivers fall into the Arabian Sea ?

1. Periyar
2. Pennar
3. Palar



Select the correct answer from the code given below :

Code :

- | | |
|-------------|-------------|
| (a) Only 1 | (b) Only 3 |
| (c) 2 and 3 | (d) 1 and 2 |

117. Arrange the following electromagnetic radiations in decreasing order of their frequencies.

1. Gamma rays
2. Ultraviolet rays
3. Radio waves
4. X-rays

Select the correct answer from the code given below :

Code :

- | | |
|----------------|----------------|
| (a) 1, 4, 3, 2 | (b) 4, 1, 2, 3 |
| (c) 1, 4, 2, 3 | (d) 4, 1, 3, 2 |

118. Given below are two statements, one is labelled as Assertion (A) and the other as Reason (R).

Assertion (A) : Food security is necessary even in surplus food production years.

Reason (R) : Starvation can still occur due to unequal distribution and lack of accessibility.

Select the correct answer from the code given below :

Code :

- (a) Both (A) and (R) are true, but (R) is not the correct explanation of (A)
- (b) (A) is false, but (R) is true
- (c) (A) is true, but (R) is false
- (d) Both (A) and (R) are true and (R) is the correct explanation of (A)

119. With reference to 'Vice-President of India', which of the following statements is/are correct ?

1. The Vice-President is the ex-officio Chairman of the Rajya Sabha.
2. Vice-President is a member of the Rajya Sabha.

Select the correct answer from the code given below :

Code :

- | | |
|------------------|---------------------|
| (a) Both 1 and 2 | (b) Neither 1 nor 2 |
| (c) Only 2 | (d) Only 1 |

116. निम्नलिखित में से कौन-सी नदी अरब सागर में गिरती है ?

1. पेरियार
2. पेन्नार
3. पलार



नीचे दिए गए कूट से सही उत्तर चुनिए :

कूट :

- | | |
|------------|------------|
| (a) केवल 1 | (b) केवल 3 |
| (c) 2 और 3 | (d) 1 और 2 |

117. निम्नलिखित विद्युतचुम्बकीय विकिरण को उनकी आवृत्तियों के घटते क्रम में व्यवस्थित कीजिए ।

1. गामा किरणें
2. पराबैंगनी किरणें
3. रेडियो तरंगें
4. X-किरणें

नीचे दिए गए कूट से सही उत्तर चुनिए :

कूट :

- | | |
|----------------|----------------|
| (a) 1, 4, 3, 2 | (b) 4, 1, 2, 3 |
| (c) 1, 4, 2, 3 | (d) 4, 1, 3, 2 |

118. नीचे दो कथन दिए गए हैं, जिनमें से एक को अभिकथन (A) तथा दूसरे को कारण (R) कहा गया है ।

अभिकथन (A) : खाद्य सुरक्षा, अधिशेष खाद्य उत्पादन वर्षों में भी आवश्यक है ।

कारण (R) : असमान वितरण और दुर्गम/पहुँच के बाहर होने के कारण भूखमरी अभी भी हो सकती है ।

नीचे दिए गए कूट से सही उत्तर चुनिए :

कूट :

- (a) (A) और (R) दोनों सही हैं, किन्तु (R), (A) की सही व्याख्या नहीं करता है
- (b) (A) गलत है, किन्तु (R) सही है
- (c) (A) सही है, किन्तु (R) गलत है
- (d) (A) और (R) दोनों सही हैं और (R), (A) की सही व्याख्या करता है

119. 'भारत के उप-राष्ट्रपति' के सन्दर्भ में निम्नलिखित में से कौन-सा/से कथन सही है/हैं ?

1. उप-राष्ट्रपति, राज्य सभा के पदेन सभापति होते हैं ।
2. उप-राष्ट्रपति राज्य सभा के सदस्य होते हैं ।

नीचे दिए गए कूट से सही उत्तर चुनिए :

कूट :

- | | |
|------------------|-------------------|
| (a) 1 और 2 दोनों | (b) न तो 1 न ही 2 |
| (c) केवल 2 | (d) केवल 1 |

120. Given below are two statements, one is labelled as Assertion (A) and the other as Reason (R).

Assertion (A) : India's success is critical for the global success of Sustainable Development Goals.

Reason (R) : India accounts for nearly one-sixth of the total world population. Select the correct answer from the code given below :

Code :

- (a) Both (A) and (R) are true, but (R) is not the correct explanation of (A)
 (b) (A) is false, but (R) is true
 (c) (A) is true, but (R) is false
 (d) Both (A) and (R) are true and (R) is the correct explanation of (A)

121. Match List - I with List - II and select the correct answer using the code given below the lists.

**List - I
(Ruler)**

- A. Mahendravarman First
 B. Kadungon
 C. Amoghavarsha First
 D. Rajaraja First

**List - II
(Dynasty)**

1. Rashtrakuta
 2. Pallava
 3. Chola
 4. Pandya

Code :

- | | A | B | C | D |
|-----|---|---|---|---|
| (a) | 4 | 2 | 3 | 1 |
| (b) | 2 | 4 | 1 | 3 |
| (c) | 2 | 4 | 3 | 1 |
| (d) | 4 | 2 | 1 | 3 |

122. The Appiko Movement is associated with which of the following Indian States ?

1. Uttarakhand
 2. Uttar Pradesh
 3. Kerala
 4. Karnataka

Select the correct answer from the code given below :

Code :

- (a) 1 and 2
 (b) Only 4
 (c) 3 and 4
 (d) Only 1

120. नीचे दो कथन दिए गए हैं, जिनमें से एक को अभिकथन (A) तथा दूसरे को कारण (R) कहा गया है।

अभिकथन (A) : सतत विकास लक्ष्यों की वैश्विक सफलता के लिए भारत की सफलता महत्वपूर्ण है।

कारण (R) : भारत में विश्व की कुल जनसंख्या का लगभग छठा हिस्सा निवास करता है।

नीचे दिए गए कूट से सही उत्तर चुनिए :

कूट :

- (a) (A) और (R) दोनों सही हैं, किन्तु (R), (A) की सही व्याख्या नहीं करता है
 (b) (A) गलत है, किन्तु (R) सही है
 (c) (A) सही है, किन्तु (R) गलत है
 (d) (A) और (R) दोनों सही हैं और (R), (A) की सही व्याख्या करता है

121. सूची - I को सूची - II से सुमेलित कीजिए तथा सूचियों के नीचे दिए गए कूट का प्रयोग कर सही उत्तर चुनिए।

**सूची - I
(शासक)**

- A. महेन्द्रवर्मन प्रथम
 B. कडुंगोन
 C. अमोघवर्ष प्रथम
 D. राजराज प्रथम

**सूची - II
(राजवंश)**

1. राष्ट्रकूट
 2. पल्लव
 3. चोल
 4. पांड्य

कूट :

- | | A | B | C | D |
|-----|---|---|---|---|
| (a) | 4 | 2 | 3 | 1 |
| (b) | 2 | 4 | 1 | 3 |
| (c) | 2 | 4 | 3 | 1 |
| (d) | 4 | 2 | 1 | 3 |

122. अप्पिको आंदोलन निम्नलिखित में से किन भारतीय राज्यों से संबंधित है/हैं ?

1. उत्तराखंड
 2. उत्तर प्रदेश
 3. केरल
 4. कर्नाटक

नीचे दिए गए कूट से सही उत्तर चुनिए :

कूट :

- (a) 1 और 2
 (b) केवल 4
 (c) 3 और 4
 (d) केवल 1



123. Pradhan Mantri Mudra Yojana comes under which of the following ?

1. Ministry of Corporate Affairs
2. Ministry of Rural Development
3. Ministry of Finance

Select the correct answer from the code given below :

Code :

- (a) 1 and 2 (b) Only 3
(c) 2 and 3 (d) Only 1

124. Consider the following Election Reforms in India and arrange them in correct chronological order starting from earliest to the last.

1. Voters photo identity card
2. Electronic voting machine
3. Voter verifiable paper audit trail
4. NOTA

Select the correct answer from the code given below :

Code :

- (a) 2, 1, 3, 4 (b) 1, 2, 4, 3
(c) 1, 2, 3, 4 (d) 2, 1, 4, 3

125. Given below are two statements, one is labelled as Assertion (A) and the other as Reason (R).

Assertion (A) : Evaporation of sweat from human skin dissipates body heat.

Reason (R) : High humidity on a hot day increases discomfort.

Select the correct answer from the code given below :

Code :

- (a) Both (A) and (R) are true, but (R) is not the correct explanation of (A)
(b) (A) is false, but (R) is true
(c) (A) is true, but (R) is false
(d) Both (A) and (R) are true and (R) is the correct explanation of (A)

123. प्रधानमंत्री मुद्रा योजना निम्नलिखित में से किसके अंतर्गत आती है ?

1. कॉर्पोरेट मामलों का मंत्रालय
2. ग्रामीण विकास मंत्रालय
3. वित्त मंत्रालय

नीचे दिए गए कूट से सही उत्तर चुनिए :

कूट :

- (a) 1 और 2 (b) केवल 3
(c) 2 और 3 (d) केवल 1

124. भारत में निम्नलिखित चुनाव सुधारों पर विचार कीजिए तथा इन्हें सबसे पहले से लेकर आखिरी तक के सही कालक्रमानुसार क्रम में व्यवस्थित कीजिए ।

1. मतदाता फोटो पहचान पत्र
2. इलेक्ट्रॉनिक वोटिंग मशीन
3. वोटर वेरिफ़िएबल पेपर ऑडिट ट्रेल
4. नोटा

नीचे दिए गए कूट से सही उत्तर चुनिए :

कूट :

- (a) 2, 1, 3, 4 (b) 1, 2, 4, 3
(c) 1, 2, 3, 4 (d) 2, 1, 4, 3

125. नीचे दो कथन दिए गए हैं, जिनमें एक को अभिकथन (A) तथा दूसरे को कारण (R) कहा गया है ।

अभिकथन (A) : मानव त्वचा से पसीने का वाष्पीकरण शरीर की गर्मी को नष्ट कर देता है ।

कारण (R) : गर्म दिन में उच्च आर्द्रता से परेशानी बढ़ जाती है ।

नीचे दिए गए कूट से सही उत्तर चुनिए :

कूट :

- (a) (A) और (R) दोनों सही हैं, किन्तु (R), (A) की सही व्याख्या नहीं करता है
(b) (A) गलत है, किन्तु (R) सही है
(c) (A) सही है, किन्तु (R) गलत है
(d) (A) और (R) दोनों सही हैं और (R), (A) की सही व्याख्या करता है



126. 'BHARATPOL', an online portal for International Police Co-operation has been developed by which of the following ?

1. Central Bureau of Investigation
2. Research and Analysis Wing
3. Intelligence Bureau
4. Enforcement Directorate

Select the correct answer from the code given below :

Code :

- (a) 2 and 3 (b) 3 and 4
(c) Only 3 (d) Only 1

127. Consider the following events and arrange them in correct chronological order.

1. Acquisition of Awadh by the British
2. Ilbert Bill Controversy
3. Indigo Revolt
4. Second Anglo-Afghan War

Select the correct answer from the code given below :

Code :

- (a) 1, 3, 4, 2 (b) 3, 1, 2, 4
(c) 3, 1, 4, 2 (d) 1, 3, 2, 4

128. As per the One District One Product (ODOP) scheme of Uttar Pradesh, Moonj products are associated with which of the following districts ?

1. Amethi
2. Sultanpur
3. Sant Kabir Nagar

Select the correct answer from the code given below :

Code :

- (a) 1 and 3 (b) Only 3
(c) 2 and 3 (d) 1 and 2

129. Which of the following Programmes/ Schemes is/are NOT included in meeting the objectives of National Education Policy 2020 ?

1. ULLAS
2. DIKSHA
3. Bharat Nirman Programme

Select the correct answer from the code given below :

Code :

- (a) 1 and 2 (b) Only 3
(c) 1 and 3 (d) Only 1

126. अंतर्राष्ट्रीय पुलिस सहयोग के लिए ऑनलाइन पोर्टल 'भारतपोल' निम्नलिखित में से किसके द्वारा विकसित किया गया है ?

1. केन्द्रीय जाँच ब्यूरो
2. अनुसंधान और विश्लेषण विंग
3. आसूचना ब्यूरो
4. प्रवर्तन निदेशालय

नीचे दिए गए कूट से सही उत्तर चुनिए :

कूट :

- (a) 2 और 3 (b) 3 और 4
(c) केवल 3 (d) केवल 1

127. निम्नलिखित घटनाओं पर विचार कीजिए तथा इन्हें सही कालक्रमानुसार क्रम में व्यवस्थित कीजिए ।

1. अंग्रेजों द्वारा अवध का अधिग्रहण
2. इल्बर्ट बिल विवाद
3. नील विद्रोह
4. द्वितीय एंग्लो-अफगान युद्ध

नीचे दिए गए कूट से सही उत्तर चुनिए :

कूट :

- (a) 1, 3, 4, 2 (b) 3, 1, 2, 4
(c) 3, 1, 4, 2 (d) 1, 3, 2, 4

128. उत्तर प्रदेश की एक जिला एक उत्पाद (ओ. डी. ओ. पी.) योजना के अनुसार, मूँज उत्पाद निम्नलिखित में से किस जिले से संबंधित है ?

1. अमेठी
2. सुल्तानपुर
3. संत कबीर नगर

नीचे दिए गए कूट से सही उत्तर चुनिए :

कूट :

- (a) 1 और 3 (b) केवल 3
(c) 2 और 3 (d) 1 और 2

129. निम्नलिखित में से कौन-सा/से कार्यक्रम/योजना, राष्ट्रीय शिक्षा नीति 2020 के उद्देश्यों को पूरा करने में शामिल नहीं हैं ?

1. उल्लास
2. दीक्षा
3. भारत निर्माण कार्यक्रम

नीचे दिए गए कूट से सही उत्तर चुनिए :

कूट :

- (a) 1 और 2 (b) केवल 3
(c) 1 और 3 (d) केवल 1



130. Iron dome missile defence system belongs to which of the following countries ?

1. France
2. United States of America
3. Israel

Select the correct answer from the code given below :

Code :

- (a) 1 and 2 (b) Only 3
(c) 2 and 3 (d) Only 1

131. Given below are two statements, one is labelled as Assertion (A) and the other as Reason (R).

Assertion (A) : Voices of men and women are different.

Reason (R) : Length and thickness of vocal cord is different in men and women.

Select the correct answer from the code given below :

Code :

- (a) Both (A) and (R) are true, but (R) is not the correct explanation of (A)
(b) (A) is false, but (R) is true
(c) (A) is true, but (R) is false
(d) Both (A) and (R) are true and (R) is the correct explanation of (A)

132. With reference to 'Human Development Index', which of the following statements is/are correct ?

1. The UNDP published its first Human Development Report in 1990, which had a Human Development Index.
2. The first team that developed the Human Development Index was led by Mahbub-ul-Haq and S. Priesner.

Select the correct answer using the code given below :

Code :

- (a) Only 2 (b) Neither 1 nor 2
(c) Both 1 and 2 (d) Only 1

130. आयरन डोम मिसाइल रक्षा प्रणाली निम्नलिखित में से किस देश की है ?

1. फ्रांस
2. संयुक्त राज्य अमेरिका
3. इज़राइल

नीचे दिए गए कूट से सही उत्तर चुनिए :

कूट :

- (a) 1 और 2 (b) केवल 3
(c) 2 और 3 (d) केवल 1

131. नीचे दो कथन दिए गए हैं, जिनमें एक को अभिकथन (A) तथा दूसरे को कारण (R) कहा गया है।

अभिकथन (A) : पुरुषों और महिलाओं की आवाजें अलग-अलग होती हैं।

कारण (R) : पुरुषों और महिलाओं में वोकल कॉर्ड की लम्बाई और मोटाई अलग-अलग होती है।

नीचे दिए गए कूट से सही उत्तर चुनिए :

कूट :

- (a) (A) और (R) दोनों सही हैं, किन्तु (R), (A) की सही व्याख्या नहीं करता है
(b) (A) गलत है, किन्तु (R) सही है
(c) (A) सही है, किन्तु (R) गलत है
(d) (A) और (R) दोनों सही हैं और (R), (A) की सही व्याख्या करता है

132. 'मानव विकास सूचकांक' के संदर्भ में निम्नलिखित में से कौन-सा/से कथन सही है/हैं ?

1. यू. एन. डी. पी. ने 1990 में अपनी पहली मानव विकास रिपोर्ट प्रकाशित की थी जिसमें मानव विकास सूचकांक था।
2. मानव विकास सूचकांक विकसित करने वाली पहली टीम का नेतृत्व महबूब-उल-हक और एस. प्रीसनर ने किया।

नीचे दिए गए कूट से सही उत्तर चुनिए :

कूट :

- (a) केवल 2 (b) न तो 1 न ही 2
(c) 1 और 2 दोनों (d) केवल 1



133. Which of the following pairs is/are NOT correctly matched ?

1. National Voters Day (India) - 25 January
2. Constitution Day (India) - 27 January
3. Human Rights Day (World) - 29 January



Select the correct answer from the code given below :

Code :

- (a) 1 and 2 (b) Only 3
(c) 2 and 3 (d) Only 1

134. Consider the following and arrange them in correct chronological order.

1. Food for work programme
2. Community Development Programme
3. Training for Rural Youth for Self Employment (TRYSEM)
4. Drought Prone Area Programme

Select the correct answer from the code given below :

Code :

- (a) 4, 2, 3, 1 (b) 2, 4, 1, 3
(c) 2, 4, 3, 1 (d) 4, 2, 1, 3

135. Who among the following resigned from the Viceroy's Executive Council, saddened by the Jallianwala Bagh Massacre ?



1. Chettur Sankaran Nair
2. Ishwari Prasad
3. Muhammad Shafi
4. Iqbal Narain Gurtu

Select the correct answer from the code given below :

Code :

- (a) 2 and 3
(b) Only 4
(c) 3 and 4
(d) Only 1

133. निम्नलिखित में से कौन-सा/से युग्म सही सुमेलित नहीं है/हैं ?



1. राष्ट्रीय मतदाता दिवस (भारत) - 25 जनवरी
2. संविधान दिवस (भारत) - 27 जनवरी
3. मानवाधिकार दिवस (विश्व) - 29 जनवरी

नीचे दिए गए कूट से सही उत्तर चुनिए :

कूट :

- (a) 1 और 2 (b) केवल 3
(c) 2 और 3 (d) केवल 1

134. निम्नलिखित पर विचार कीजिए तथा उन्हें सही कालक्रमानुसार क्रम में व्यवस्थित कीजिए ।

1. काम के बदले अनाज कार्यक्रम
2. सामुदायिक विकास कार्यक्रम
3. स्व रोजगार के लिए ग्रामीण युवाओं का प्रशिक्षण (ट्राइसेम)
4. सूखा प्रवण क्षेत्र कार्यक्रम

नीचे दिए गए कूट से सही उत्तर चुनिए :

कूट :

- (a) 4, 2, 3, 1 (b) 2, 4, 1, 3
(c) 2, 4, 3, 1 (d) 4, 2, 1, 3

135. निम्नलिखित में से किसने जलियांवाला बाग हत्याकांड से दुखी होकर वायसराय की कार्यकारिणी परिषद से इस्तीफा दे दिया था ?

1. चेट्टूर शंकरन नायर
2. ईश्वरी प्रसाद
3. मुहम्मद शफी
4. इकबाल नारायण गुरट्ट

नीचे दिए गए कूट से सही उत्तर चुनिए :

कूट :

- (a) 2 और 3
(b) केवल 4
(c) 3 और 4
(d) केवल 1



136. With reference to the New Pamban Bridge, which of the following statements is/are correct ?

1. It was constructed by Rail Vikas Nigam Limited, which is a 'Navratna' public sector unit under the Ministry of Railways.
2. It is India's first vertical lift railway sea bridge.

Select the correct answer from the code given below :

Code :

- (a) Only 2 (b) Neither 1 nor 2
(c) Both 1 and 2 (d) Only 1

137. Given below are two statements, one is labelled as Assertion (A) and the other as Reason (R).

Assertion (A) : Consumers can bargain below Maximum Retail Price (MRP).

Reason (R) : MRP is a price a seller must charge from the buyer.

Select the correct answer from the code given below :

Code :

- (a) Both (A) and (R) are true, but (R) is not the correct explanation of (A)
(b) (A) is false, but (R) is true
(c) (A) is true, but (R) is false
(d) Both (A) and (R) are true and (R) is the correct explanation of (A)

138. Suez canal connects which of the following ?

1. Atlantic Ocean
2. Red Sea
3. Mediterranean Sea
4. Indian Ocean

Select the correct answer from the code given below :

Code :

- (a) 1 and 3 (b) 3 and 4
(c) 2 and 3 (d) 1 and 2

139. With reference to Lifestyle for the Environment (LiFE), which of the following statements is/are correct ?

1. It was launched in June 2022.
2. Its idea was proposed at the COP 25 in Madrid, Spain.

Select the correct answer from the code given below :

Code :

- (a) Only 2 (b) Neither 1 nor 2
(c) Both 1 and 2 (d) Only 1

136. नई पंबन ब्रिज के संदर्भ में निम्नलिखित में से कौन-सा/से कथन सही है/हैं ?

1. इसका निर्माण रेल विकास निगम लिमिटेड द्वारा किया गया है, जो रेल मंत्रालय के तहत एक 'नवरत्न' सार्वजनिक क्षेत्र की इकाई है।
2. यह भारत का पहला वर्टिकल लिफ्ट रेलवे सी ब्रिज है।

नीचे दिए गए कूट से सही उत्तर चुनिए :

कूट :

- (a) केवल 2 (b) न तो 1 न ही 2
(c) 1 और 2 दोनों (d) केवल 1

137. नीचे दो कथन दिए गए हैं, जिनमें से एक को अभिकथन (A) तथा दूसरे को कारण (R) कहा गया है।

अभिकथन (A) : उपभोक्ता अधिकतम खुदरा मूल्य (एम.आर.पी.) से कम पर मोलभाव कर सकते हैं।

कारण (R) : एम.आर.पी. वह मूल्य है जो विक्रेता को क्रेता से वसूलना ही होता है।

नीचे दिए गए कूट से सही उत्तर चुनिए :

कूट :

- (a) (A) और (R) दोनों सही हैं, किन्तु (R), (A) की सही व्याख्या नहीं करता है
(b) (A) गलत है, किन्तु (R) सही है
(c) (A) सही है, किन्तु (R) गलत है
(d) (A) और (R) दोनों सही हैं और (R), (A) की सही व्याख्या करता है

138. स्वेज नहर निम्नलिखित में से किन्हें जोड़ती है ?

1. अटलांटिक महासागर
2. लाल सागर
3. भूमध्य सागर
4. हिन्द महासागर

नीचे दिए गए कूट से सही उत्तर चुनिए :

कूट :

- (a) 1 और 3 (b) 3 और 4
(c) 2 और 3 (d) 1 और 2

139. लाइफस्टाइल फॉर द एनवायरमेंट (लाइफ) के संदर्भ में निम्नलिखित में से कौन-सा/से कथन सही है/हैं ?

1. इसे जून 2022 में लॉन्च किया गया था।
2. इसके विचार को मैड्रिड, स्पेन में कॉप 25 में प्रस्तावित किया गया था।

नीचे दिए गए कूट से सही उत्तर चुनिए :

कूट :

- (a) केवल 2 (b) न तो 1 न ही 2
(c) 1 और 2 दोनों (d) केवल 1



140. With reference to World Bank and International Monetary Fund, which of the following statements is/are correct ?
1. The World Bank and International Monetary Fund were set up together and are popularly known as Bretton Wood Twins.
 2. Headquarters of International Monetary Fund and World Bank are located at Washington D.C. and New York respectively.

Select the correct answer from the code given below :

Code :

- (a) Only 2 (b) Neither 1 nor 2
(c) Both 1 and 2 (d) Only 1

141. With reference to the 'Joint Sitting of Parliament', which of the following statements is/are correct ?
1. Article 109 of the Constitution of India provides for the Joint Sitting of Parliament.
 2. A Joint Sitting of Parliament may be called to pass a Constitution Amendment Bill.

Select the correct answer from the code given below :

Code :

- (a) Both 1 and 2 (b) Neither 1 nor 2
(c) Only 2 (d) Only 1

142. Match List - I with List - II and select the correct answer from the code given below the lists.



List - I
(Sustainable Development Goals)

- A. Goal 1
B. Goal 3
C. Goal 4
D. Goal 6

List - II
(Area of Goal)

1. Clean water and sanitation
2. Quality education
3. To end poverty in all forms
4. Good health and well-being

Code :

- | | A | B | C | D |
|-----|---|---|---|---|
| (a) | 4 | 3 | 1 | 2 |
| (b) | 3 | 4 | 2 | 1 |
| (c) | 3 | 4 | 1 | 2 |
| (d) | 4 | 3 | 2 | 1 |

140. विश्व बैंक और अंतर्राष्ट्रीय मुद्रा कोष के संदर्भ में निम्नलिखित में से कौन-सा/से कथन सही है/हैं ?



1. विश्व बैंक और अंतर्राष्ट्रीय मुद्रा कोष की स्थापना एक साथ की गई और इन्हें लोकप्रिय रूप से ब्रेटन वुड जुड़वाँ कहा जाता है।
 2. अंतर्राष्ट्रीय मुद्रा कोष और विश्व बैंक का मुख्यालय क्रमशः वाशिंगटन डी.सी. और न्यूयॉर्क में स्थित है।
- नीचे दिए गए कूट से सही उत्तर चुनिए :

कूट :

- (a) केवल 2 (b) न तो 1 न ही 2
(c) 1 और 2 दोनों (d) केवल 1

141. 'संसद की संयुक्त बैठक' के संदर्भ में निम्नलिखित में से कौन-सा/से कथन सही है/हैं ?



1. भारत के संविधान का अनुच्छेद 109 संसद की संयुक्त बैठक का प्रावधान करता है।
2. संविधान संशोधन विधेयक को पारित करने के लिए संसद की संयुक्त बैठक आहूत की जा सकती है।

नीचे दिए गए कूट से सही उत्तर चुनिए :

कूट :

- (a) 1 और 2 दोनों (b) न तो 1 न ही 2
(c) केवल 2 (d) केवल 1

142. सूची - I को सूची - II से सुमेलित कीजिए तथा सूचियों के नीचे दिए गए कूट से सही उत्तर चुनिए।

सूची - I
(सतत विकास लक्ष्य)

- A. लक्ष्य 1
B. लक्ष्य 3
C. लक्ष्य 4
D. लक्ष्य 6

सूची - II
(लक्ष्य का क्षेत्र)

1. स्वच्छ जल और स्वच्छता
2. गुणवत्तापूर्ण शिक्षा
3. गरीबी के सभी रूपों को खत्म करना
4. अच्छा स्वास्थ्य और कल्याण

कूट :

- | | A | B | C | D |
|-----|---|---|---|---|
| (a) | 4 | 3 | 1 | 2 |
| (b) | 3 | 4 | 2 | 1 |
| (c) | 3 | 4 | 1 | 2 |
| (d) | 4 | 3 | 2 | 1 |



143. With reference to 'Operation Olivia', which of the following statements is/are correct ?

1. It is an initiative of Indian coast Guards to protect Olive Ridley turtles along the coast of Odisha.
2. Operation Olivia is carried out during the month of August which is the nesting time of Olive Ridley turtles.

Select the correct answer from the code given below :

Code :

- (a) Only 2 (b) Neither 1 nor 2
(c) Both 1 and 2 (d) Only 1

144. Which of the following pairs is/are NOT correctly matched ?



(Biosphere Reserve)	(State)
----------------------------	----------------

- | | |
|------------------|-----------|
| 1. Nokrek | - Manipur |
| 2. Manas | - Assam |
| 3. Agasthyamalai | - Kerala |

Select the correct answer from the code given below :

Code :

- (a) 1 and 2 (b) Only 3
(c) 2 and 3 (d) Only 1

145. With reference to Global Environment Facility, which of the following statements is/are correct ?

1. It was established in 1991.
2. Only the developed countries are donors to it.

Select the correct answer from the code given below :

Code :

- (a) Only 2 (b) Neither 1 nor 2
(c) Both 1 and 2 (d) Only 1

146. Given below are two statements, one is labelled as Assertion (A) and the other as Reason (R).

Assertion (A) : Directive Principles are important for economic, social and political functions in a Modern Democratic State.

Reason (R) : The core objectives of Directive Principles is to establish economic and social democracy.

Select the correct answer from the code given below :

Code :

- (a) Both (A) and (R) are true, but (R) is not the correct explanation of (A)
(b) (A) is false, but (R) is true
(c) (A) is true, but (R) is false
(d) Both (A) and (R) are true and (R) is the correct explanation of (A)

143. 'ऑपरेशन ओलिविया' के संदर्भ में निम्नलिखित में से कौन-सा/से कथन सही है/हैं ?

1. यह ओडिशा के तट पर ओलिव रिडले कछुओं की सुरक्षा के लिए भारतीय तट रक्षकों की एक पहल है।
2. ऑपरेशन ओलिविया अगस्त के महिने के दौरान चलाया जाता है जो ओलिव रिडले कछुओं के घोंसले बनाने का समय होता है।

नीचे दिए गए कूट से सही उत्तर चुनिए :

कूट :

- (a) केवल 2 (b) न तो 1 न ही 2
(c) 1 और 2 दोनों (d) केवल 1

144. निम्नलिखित में से कौन-सा/से युग्म सही सुमेलित नहीं है/हैं ?



(बायोस्फीयर रिजर्व)	(राज्य)
----------------------------	----------------

- | | |
|----------------|----------|
| 1. नोकरेक | - मणिपुर |
| 2. मानस | - असम |
| 3. अगस्त्यमलाई | - केरल |

नीचे दिए गए कूट से सही उत्तर चुनिए :

कूट :

- (a) 1 और 2 (b) केवल 3
(c) 2 और 3 (d) केवल 1

145. वैश्विक पर्यावरण सुविधा के संदर्भ में निम्नलिखित में से कौन-सा/से कथन सही है/हैं ?

1. इसकी स्थापना 1991 में हुई थी।
2. केवल विकसित देश ही इसके दाता (डोनर) हैं।

नीचे दिए गए कूट से सही उत्तर चुनिए :

कूट :

- (a) केवल 2 (b) न तो 1 न ही 2
(c) 1 और 2 दोनों (d) केवल 1

146. नीचे दो कथन दिए गए हैं, जिनमें एक को अभिकथन (A) तथा दूसरे को कारण (R) कहा गया है।

अभिकथन (A) : आधुनिक लोकतांत्रिक राज्य में आर्थिक, सामाजिक और राजनीतिक कार्यों हेतु निदेशक सिद्धांत महत्वपूर्ण हैं।

कारण (R) : आर्थिक और सामाजिक लोकतंत्र की स्थापना करना ही निदेशक सिद्धांतों का मूल उद्देश्य है।

नीचे दिए गए कूट से सही उत्तर चुनिए :

कूट :

- (a) (A) और (R) दोनों सही हैं, किन्तु (R), (A) की सही व्याख्या नहीं करता है
(b) (A) गलत है, किन्तु (R) सही है
(c) (A) सही है, किन्तु (R) गलत है
(d) (A) और (R) दोनों सही हैं और (R), (A) की सही व्याख्या करता है



147. Who among the following introduced the concept of entitlements in food security ?

1. M. S. Swaminathan
2. Atul Pranay
3. Samali Srikant
4. Amartya Sen

Select the correct answer from the code given below :

Code :

- (a) 1 and 2 (b) Only 4
(c) 3 and 4 (d) Only 1

148. With reference to Jnanpith Award, which of the following statements is/are correct ?

1. The 58th Jnanpith Award was conferred upon Sanskrit Scholar Jagadguru Rambhadracharya Ji.
2. The 1st Jnanpith Award was given in 1965.

Select the correct answer from the code given below :

Code :

- (a) Only 2 (b) Neither 1 nor 2
(c) Both 1 and 2 (d) Only 1

149. Arrange the following in chronological order of their rule and select the correct answer from the code given below.



1. Bajirao I
2. Balaji Bajirao
3. Balaji Vishwanath
4. Madhav Rao I

Code :

- (a) 1, 3, 2, 4 (b) 3, 1, 4, 2
(c) 3, 1, 2, 4 (d) 1, 3, 4, 2

150. Which of the following pairs is/are correctly matched ?

- | (Railway Zone) | (Headquarter) |
|--------------------------|---------------|
| 1. Northern Railway | - New Delhi |
| 2. North Eastern Railway | - Gorakhpur |
| 3. South Eastern Railway | - Cuttack |

Select the correct answer from the code given below :

Code :

- (a) Only 1 and 2 (b) Only 3
(c) Only 2 and 3 (d) Only 1

147. निम्नलिखित में से किसके द्वारा खाद्य सुरक्षा में अधिकार की अवधारणा प्रस्तावित की गई है ?

1. एम. एस. स्वामीनाथन
2. अतुल प्रणय
3. समाली श्रीकांत
4. अमर्त्य सेन



नीचे दिए गए कूट से सही उत्तर चुनिए :

कूट :

- (a) 1 और 2 (b) केवल 4
(c) 3 और 4 (d) केवल 1

148. ज्ञानपीठ पुरस्कार के संदर्भ में निम्नलिखित में से कौन-सा/से कथन सही है/हैं ?

1. 58 वाँ ज्ञानपीठ पुरस्कार संस्कृत विद्वान जगद्गुरु रामभद्राचार्य जी को प्रदान किया गया ।
2. पहला ज्ञानपीठ पुरस्कार 1965 में दिया गया था ।

नीचे दिए गए कूट से सही उत्तर चुनिए :

कूट :

- (a) केवल 2 (b) न तो 1 न ही 2
(c) 1 और 2 दोनों (d) केवल 1

149. निम्नलिखित को उनके शासन के कालक्रमानुसार क्रम में व्यवस्थित कीजिए तथा नीचे दिए गए कूट से सही उत्तर चुनिए ।

1. बाजीराव I
2. बालाजी बाजीराव
3. बालाजी विश्वनाथ
4. माधव राव I

कूट :

- (a) 1, 3, 2, 4 (b) 3, 1, 4, 2
(c) 3, 1, 2, 4 (d) 1, 3, 4, 2

150. निम्नलिखित में से कौन-सा/से युग्म सही सुमेलित है/हैं ?

(रेलवे मण्डल)

(मुख्यालय)

- | | | |
|------------------------|---|-----------|
| 1. उत्तर रेलवे | - | नई दिल्ली |
| 2. उत्तर पूर्वी रेलवे | - | गोरखपुर |
| 3. दक्षिण पूर्वी रेलवे | - | कटक |



नीचे दिए गए कूट से सही उत्तर चुनिए :

कूट :

- (a) केवल 1 और 2 (b) केवल 3
(c) केवल 2 और 3 (d) केवल 1



SPACE FOR ROUGH WORK

रफ कार्य के लिए स्थान



SPACE FOR ROUGH WORK

रफ कार्य के लिए स्थान



5411337



DO NOT OPEN THIS QUESTION BOOKLET UNTIL YOU ARE TOLD TO DO SO.

2025

Question Booklet Bar Code Serial No.

प्रश्न-पुस्तिका बार कोड क्रम संख्या

CODE : CIZU-1 - 23

SUBJECT : GENERAL STUDIES - I



2471237

Time : 2 Hours

Max. Marks : 200

Write your Roll Number
in the box

In numbers



--	--	--	--	--	--	--	--

In words

--

To mark Answer use **Black Ball-Point Pen** only.

Candidate must read all the instructions carefully
before writing the answers on the Answer-Sheet.

Signature
of
Invigilator

You are to mark all your answers on **Answer-Sheet only**. After the examination is over, handover the **Answer-Sheet to the Invigilator** and receive candidate's copy (Blue) from the Invigilator.

IMPORTANT INSTRUCTIONS

1. Answer **all** questions. **All** questions carry equal marks. OMR Answer-Sheet and Question Booklet which carry same Bar Code Serial Number, are kept together inside a sealed transparent polythene packet.
2. **Immediately after opening the transparent sealed polythene packet, again check that the Printed Bar Code Serial Number of Question Booklet and OMR Answer-Sheet is same and all the pages are printed properly. If the Printed Bar Code Serial Number of Question Booklet and OMR Answer-Sheet is not same or there is any other discrepancy in it, return it to the Invigilator and get another sealed polythene packet of Question Booklet and OMR Answer-Sheet.**
3. **Only after ensuring that the printed Bar Code Serial Number of the Question Booklet and OMR Answer-Sheet is same**, candidate has to indicate the correct Roll Number, Subject and Subject Code on the OMR Answer-Sheet at the specified place, otherwise the OMR Answer-Sheet will not be evaluated and the candidate will be solely responsible for it.
4. Do not write anything on the cover page of the Question Booklet except Roll Number. Use the space for rough work given in the last two pages of the Question Booklet.
5. **This Question Booklet contains 150 questions.** Each question has **four (4)** options which are given below the question. Only one option is correct out of the four. You are required to darken the circle corresponding to the alternative which you consider to be the correct or most appropriate answer in the OMR Answer-Sheet by **Black Ball-Point Pen**.
6. In this Question Booklet all questions are printed in both Hindi and English languages. In case of any ambiguity in the bilingual (Hindi/English) question, the English version of the question shall prevail.
7. **Penalty for wrong answers :**

THERE WILL BE PENALTY FOR WRONG ANSWERS MARKED BY A CANDIDATE IN THE OMR ANSWER SHEET.

- (i) There are four alternatives for the answer to every question. For each question for which a wrong answer has been given by the candidate, **one-third** of the marks assigned to that question will be deducted as penalty.
- (ii) If a candidate gives more than one answer, it will be treated as a **wrong answer**, even if one of the given answers happens to be correct and there will be same penalty as above to that question.
- (iii) If a question is left blank, i.e., no answer is given by the candidate, there will be **no penalty** for that question.

Note : Please check that the Bar Code Serial Number printed on the Question Booklet and the OMR Answer-Sheet is same, in case of any discrepancy in it, get it changed with another set of sealed polythene packet of Question Booklet and OMR Answer-Sheet.

ध्यान दें : अनुदेशों का हिन्दी रूपांतर इस प्रश्न-पुस्तिका के प्रथम पृष्ठ पर छपा है।